

## Willkommen im MNW



### Achtung

Das ist eine beta phase



### Schule

Lebensfeindlicher Ort



bibliothek, bücher, wissen

### Urheberrecht im Internet - Erklärfilm

[Edit] Das mit dem Haus hab ich lange überlegt mit meinen Profs und einer Erzieherin, welches Beispiel am ehesten bei den jungen Erwachsenen das ...



YouTube-  
Video

Link: <https://youtu.be/P3hFho5dtC0>



[Geoformen PDF](#)  
[Skript](#)

① ★★★ Dies ist eine einfache Beispielaufgabe. / 5

- a) Klicken Sie doppelt oder auf den Stift, um den Inhalt **direkt im rechten Menü** zu bearbeiten.
- b) Nutzen Sie den roten Zauberpinsel oben rechts im Menü des Bausteins, um seinen Inhalt zu leeren.

② Dies ist eine einfache Beispielaufgabe. / 5

- Klicken Sie doppelt oder auf den Stift, um den Inhalt **direkt im rechten Menü** zu bearbeiten.
- Nutzen Sie den roten Zauberpinsel oben rechts im Menü des Bausteins, um seinen Inhalt zu leeren.

Note

Unterschrift

Punkte:

**/ 10**

Mit diesem Baustein erstellen Sie einfache Texte, wie diesen. Klicken Sie doppelt auf den Text, um ihn zu bearbeiten.

- Zum Formatieren nutzen Sie entweder das graue Menü direkt über diesem Baustein oder - wenn Sie Lücken, Farben, Links oder Formeln einfügen wollen - aktivieren Sie in der rechten Bearbeitungsleiste „Erweiterte Formatierung“.
- Um dieses Beispiel zu löschen, klicken Sie auf den roten Zauberpinsel ganz oben rechts in der rechten Bearbeitungsleiste.

1

**Erstes Kapitel aus dem Roman „Effi Briest“ von Theodor Fontane. Das Werk gilt als Geburtshelfer des deutschen Gesellschaftsromans.**

In Front des schon seit Kurfürst Georg Wilhelm von der Familie von

5 Briest bewohnten Herrenhauses zu Hohen-Cremmen fiel heller Sonnenschein auf die mittagsstille Dorfstraße, während nach der Park- und Gartenseite hin ein rechtwinklig angebauter Seitenflügel einen breiten Schatten erst auf

15

einen weiß und grün quadrierten Fliesengang und dann über diesen hinaus auf ein großes, in seiner Mitte mit einer Sonnenuhr und an seinem Rande mit Canna indica und Rhabarberstauden besetzten Rondell warf.

Effi Briest

Post-it

*Ich würde keinen Sinn in meinem Leben sehen, wenn ich nicht überzeugt wäre, dass Musik etwas bewirkt.*

Kurt Masur

## ③ Analysiere das Gespräch.

Heiko: Wer ruft mir?

Heiko:

*Faust wendet sich ab*

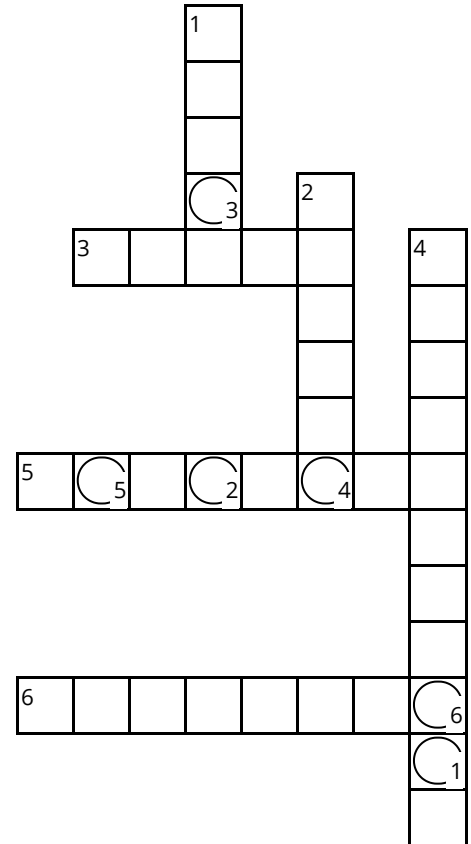
*Schreckliches Gesicht!*

Heiko: Du hast mich mächtig angezogen,  
An meiner Sphäre lang gesogen,  
Und nun –

James: Weh! ich ertrag dich nicht!

④ Welches Obst ist pink und pelzig?

H <sub>1</sub> M <sub>2</sub> <sub>3</sub> <sub>4</sub> <sub>5</sub> <sub>6</sub>



**1** bunt und knackig

**2** gelb und fleischig

**3** Frau?

**4** Daniel ...?

**5** rot und saftig

**6** orange und pelzig

⑤ Finde alle Wörter, die etwas mit Obst zu tun haben.

C O M P U T E R E W Ä E  
 B N V B Ö K L Ä Y R H R  
 G B D Q Ü H Ü W M C B D  
 Ö Y Z A P F E L N L A B  
 A P R I K O S E Ü E N E  
 F M U C Z D W S I Z A E  
 P M Q T D V R C E V N E  
 D L E R D B E E R E E R  
 Ä Ö I A Ö C R A Z F X F

⑥ Ordne zu!

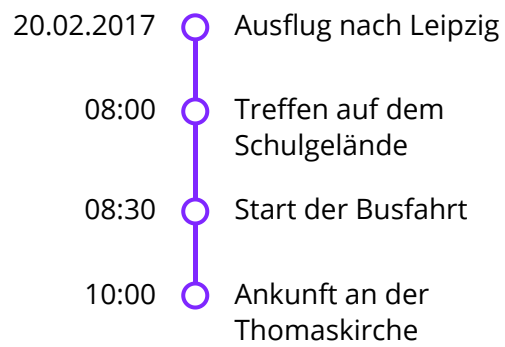
- grün ●    ○ Himmel  
 blau ●    ○ Wiese

⑦ Sortiere die Ereignisse nach ihrer Reihenfolge! (1-7)

- Die befruchtete Eizelle nistet sich in der Gebärmutter ein.
- Die Eizelle wird befruchtet.
- Der Embryo bewegt Arme und Beine.
- Das Herz des Fötus beginnt zu schlagen.
- Der Embryo dreht sich im Mutterleib und rutscht in das Becken.
- Die Eizelle teilt sich.
- Das Baby wird geboren.

⑧ Welche Tiere gehören zu den Säugetieren?

- Hunde
- Katzen
- Vögel
- Delfine



⑨ Berechne!

a)  $27 + \square = 33$

d)  $18 + \square = 116$

g)  $55 + \square = 60$

b)  $75 + \square = 142$

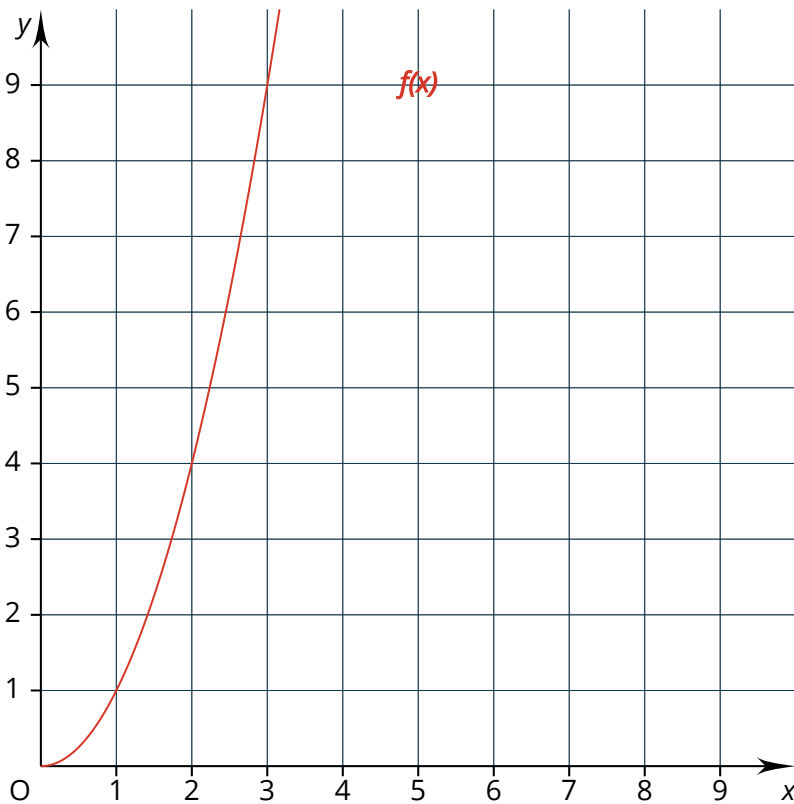
e)  $47 + \square = 72$

h)  $2 + \square = 28$

c)  $32 + \square = 110$

f)  $27 + \square = 45$

i)  $10 + \square = 54$





## Das Wandern

Worte: Wilhelm Müller 1818 (1794-1827)

Weise: Karl Zöllner 1844 (1800-1860)

♩ = 120



1. Das Wan - dern ist des Mül - lers Lust, das Wan - dern ist des



Mül - lers Lust, das Wan - - dern. Das\_\_ mussein schlech - ter\_\_



Mül - ler sein, dem\_\_ nie - mals fiel\_\_ das\_\_ Wan - dern ein, dem



nie - mals fiel das Wan - dernein, das Wan - - dern.

$$f(x) = x^2 + 2x + 1$$

$$\sum_{n=1}^{\infty} 2^{-n} = 1$$

	1,00	2,00	3,00
$f(x)$	4,00	9,00	16,00

⑩ Hier kann Ihre Aufgabenstellung für den folgenden Lückentext stehen.

Erstellen Sie weitere , z.B. mit Hilfe der eckigen Klammern (**Mac:**  $Alt + 5$  und  $6$ .

**Windows:**  $AltGr + 7$  und  $8$ ) oder der Toolbar über dem Bearbeitungsfeld. Klicken Sie auf das


Zahnrad oben rechts auf dem  und wählen Sie dort unterschiedliche

der Lücken auf dem Dokument.

x	1	2	
1	1	2	
2	2	4	

Multiplikationstabelle

- 11) Ein Bauer erntet 300 Kilogramm Kartoffeln.  
Pro Monat benötigt seine Familie 30  
Kilogramm. Wie lange reichen die Kartoffeln?



Bildunterschrift/Quelle