

Name Lernpartner/in:

Name Lernbegleiter/in:

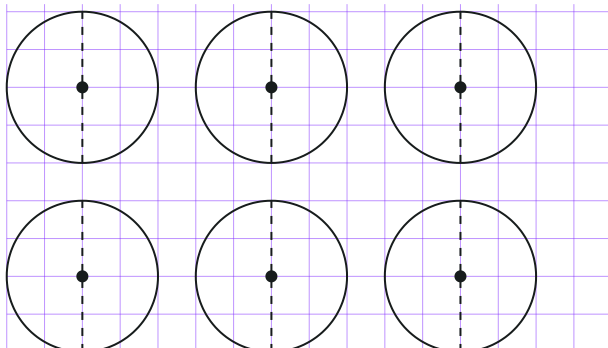
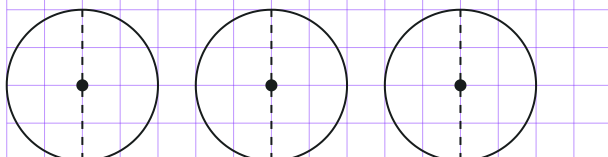
Datum:

1 Erkenne und benenne die folgenden Brüche als echt oder unecht.

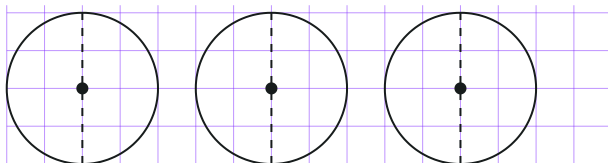
/ 2

a) $\frac{7}{4}$ echter Bruch unechter Bruchb) $\frac{4}{5}$ echter Bruch unechter Bruchc) $\frac{3}{8}$ echter Bruch unechter Bruchd) $\frac{9}{3}$ echter Bruch unechter Bruch**2** Wandle die folgenden unechten Brüche in gemischte Zahlen um.

/ 2

a) $\frac{9}{4} = \square \frac{\square}{\square}$ b) $\frac{17}{8} = \square \frac{\square}{\square}$ **3** Wandle die folgenden gemischten Zahlen in unechte Brüche um:

/ 2

a) $2\frac{3}{4} = \frac{\square}{\square}$ b) $3\frac{2}{6} = \frac{\square}{\square}$ 