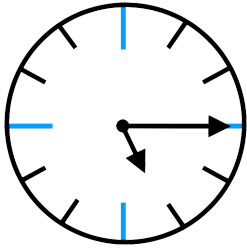
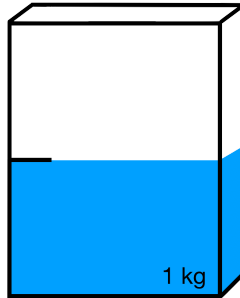


① Welche Brüche sind hier dargestellt? Achte auf die angegebenen Einheiten.

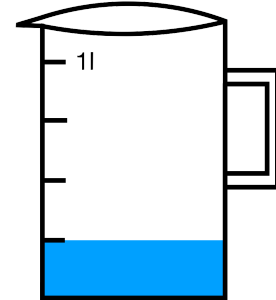


Vergangene Zeit seit 5 Uhr:

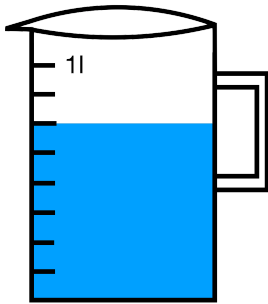
h



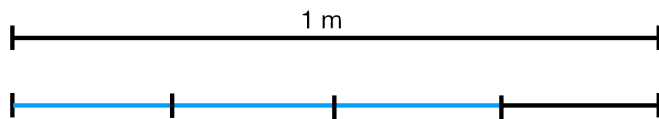
kg



l



l



m

② Erweitere mit den angegebenen Zahlen.

a) Erweitere $\frac{3}{5}$ mit der Zahl 4


b) Erweitere $\frac{1}{4}$ mit der Zahl 2

③ Kürze mit den angegebenen Zahlen.

a) Kürze $\frac{4}{6}$ mit der Zahl 2

b) Kürze $\frac{9}{15}$ mit der Zahl 3

(Auf der nächsten Seite hast du genügend Platz um die Lösung hinzuschreiben.)



④ Mit welchen Zahlen kannst du folgende Brüche kürzen? Trage deine Antwort in den grauen Bereich hinter dem jeweiligen Bruch ein.

a) $\frac{6}{8}$

b) $\frac{6}{9}$

c) $\frac{8}{12}$

d) $\frac{10}{20}$