



# GN: Rechnen M (D)

Mathematik Kopfrechnen, Rechnen M 3

Name Lernpartner/in:

Name Lernbegleiter/in:

Datum:

① Berechne die folgenden Aufgaben!

/ 6

$7 + 9 = \underline{\quad}$

$17 + 9 = \underline{\quad}$

$37 + 9 = \underline{\quad}$

$47 + 9 = \underline{\quad}$

$47 + 19 = \underline{\quad}$

$47 + 20 = \underline{\quad}$

②

/ 6

$16 - 9 = \underline{\quad}$

$26 - 9 = \underline{\quad}$

$36 - 9 = \underline{\quad}$

$56 - 9 = \underline{\quad}$

$56 - 19 = \underline{\quad}$

$56 - 20 = \underline{\quad}$

③

/ 5

	6	4
8		
2		
7		

$\underline{\quad} \cdot 5 = 20$

$\underline{\quad} \cdot 7 = 63$

$\underline{\quad} \cdot 8 = 24$

$\underline{\quad} \cdot 6 = 48$

④

/ 4

$63 : 9 = \underline{\quad}$

$30 : 6 = \underline{\quad}$

$15 : 5 = \underline{\quad}$

$49 : 7 = \underline{\quad}$

$18 : 5 = \underline{\quad} R \underline{\quad}$

$28 : 3 = \underline{\quad} R \underline{\quad}$

$41 : 6 = \underline{\quad} R \underline{\quad}$

$38 : 4 = \underline{\quad} R \underline{\quad}$





## GN: Rechnen M (D)

Mathematik Kopfrechnen, Rechnen M 3

⑤ Rechne halbschriftlich!

/ 4

$$597 + 256 = \underline{\hspace{2cm}}$$

$$357 - 124 = \underline{\hspace{2cm}}$$

⑥ Bilde aus den beiden Zahlen  
Additionsaufgabe.  
Rechne schriftlich.

Bilde aus beiden Zahlen eine **sinnvolle**  
Subtraktionsaufgabe.  
Berechne schriftlich.

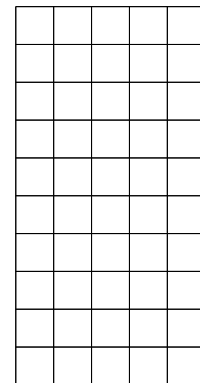
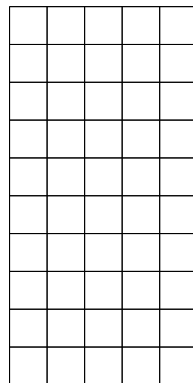
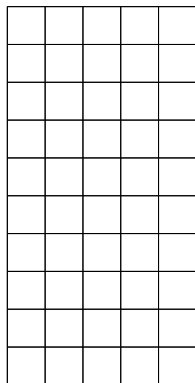
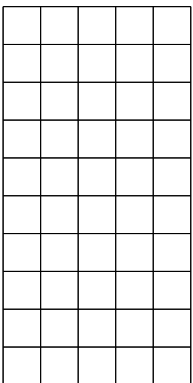
/ 4

576  
312

326  
612

743  
765


225  
368



⑦ Rechne schriftlich!

/ 1

$$401 + 255 + 23$$



Du hast  von 30 Punkten erreicht (bestanden bei 24 Punkten).



bestanden



nicht bestanden

Datum/Kürzel:



Bereitgestellt von: anonym  
Stand: 21.07.2020  
Lizenzhinweise: <https://editor.mnweg.org/entdecken/dokument/46c07c16>

Seite: 2/2

