


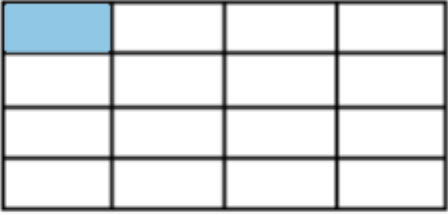





① Gib den gefärbten Anteil als Bruch an.

a) 	d) 
b) 	e) 
c) 	f) 



**Du brauchst eine Vorbereitung für den GN?**

Versuche es doch mal mit den QR-Codes!



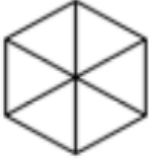



[Anteile erkennen](#)

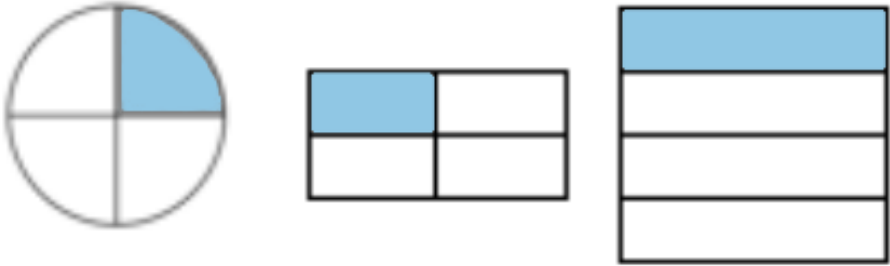


[Anteile bei Flächen](#)

② Färbe jeweils den angegebenen Bruchteil der Fläche in deiner Lieblingsfarbe.

<p>a)</p>  <p><math>\frac{1}{4}</math></p>	<p>c)</p>  <p><math>\frac{1}{10}</math></p>
<p>b)</p>  <p><math>\frac{1}{6}</math></p>	<p>d)</p>  <p><math>\frac{1}{7}</math></p>

③ Welcher Bruchteil ist hier dargestellt? Was fällt dir auf? Haben die Brüche Gemeinsamkeiten?




---



---



---



---

④ Welche Brüche sind dargestellt?

