

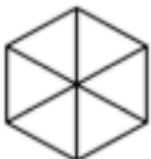



② Färbe jeweils den angegebenen Bruchteil der Fläche in deiner Lieblingsfarbe.

<p>a)</p>  <p>$\frac{1}{4}$</p>	<p>c)</p>  <p>$\frac{1}{10}$</p>
<p>b)</p>  <p>$\frac{1}{6}$</p>	<p>d)</p>  <p>$\frac{1}{7}$</p>

③ Welcher Bruchteil ist hier dargestellt? Was fällt dir auf? Haben die Brüche Gemeinsamkeiten?

