
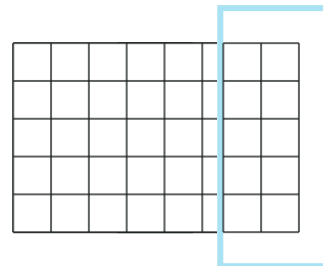



**Tipp 1**

Wenn du keinen Zirkel hast, benutze einfach einen runden Gegenstand als Schablone!

**Tipp 2**

Orientiere dich an den Kästchen in deinem Heft!



- ① Zeichne die folgenden Brüche!  
Du benötigst dazu einen Zirkel bzw. einen Bleistift und ein Geodreieck!  
Entscheide selbst, welchen Radius (Aufgabe 2) und welche Seitenlängen (Aufgaben 3-5) du wählst.
- ② Als Kreis:                      a)  $\frac{1}{4}$                       b)  $\frac{3}{4}$                       c)  $\frac{1}{2}$                       d)  $\frac{3}{8}$
- ③ Als Rechteck:                      a)  $\frac{2}{5}$                       b)  $\frac{5}{6}$                       c)  $\frac{3}{10}$                       d)  $\frac{16}{20}$
- ④ Als Quadrat:                      a)  $\frac{2}{4}$                       b)  $\frac{5}{9}$                       c)  $\frac{13}{16}$                       d)  $\frac{2}{25}$
- ⑤ Deine Wahl:                      a)  $\frac{6}{11}$                       b)  $\frac{3}{16}$                       c)  $\frac{1}{3}$                       d)  $\frac{5}{8}$