
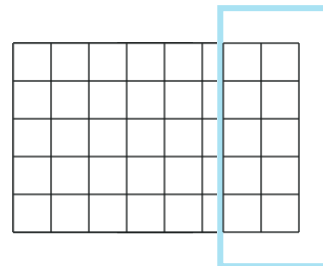



**Tipp 1**

Wenn du keinen Zirkel hast, benutze einfach einen runden Gegenstand als Schablone!

**Tipp 2**

Orientiere dich an den Kästchen in deinem Heft!



- ① Zeichne die folgenden Brüche!
Du benötigst dazu einen Zirkel bzw. einen Bleistift und ein Geodreieck!
Entscheide selbst, welchen Radius (Aufgabe 2) und welche Seitenlängen (Aufgaben 3-5) du wählst.

- ② Als Kreis: a) $\frac{1}{4}$ b) $\frac{3}{4}$ c) $\frac{1}{2}$ d) $\frac{3}{8}$
- ③ Als Rechteck: a) $\frac{2}{5}$ b) $\frac{5}{6}$ c) $\frac{3}{10}$ d) $\frac{16}{20}$
- ④ Als Quadrat: a) $\frac{2}{4}$ b) $\frac{5}{9}$ c) $\frac{13}{16}$ d) $\frac{2}{25}$
- ⑤ Deine Wahl: a) $\frac{6}{11}$ b) $\frac{3}{16}$ c) $\frac{1}{3}$ d) $\frac{5}{8}$