




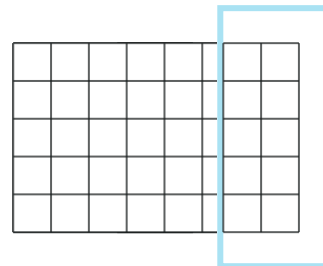

Tipp 1

Wenn du keinen Zirkel hast, benutze einfach einen runden Gegenstand als Schablone!



Tipp 2

Orientiere dich an den Kästchen in deinem Heft!



- ① Zeichne die folgenden Brüche!
 Du benötigst dazu einen Zirkel bzw. einen Bleistift und ein Geodreieck!
 Entscheide selbst, welchen Radius (Aufgabe 2) und welche Seitenlängen (Aufgaben 3-5) du wählst.

- | | | | | |
|-----------------|-------------------|-------------------|--------------------|--------------------|
| ② Als Kreis: | a) $\frac{1}{4}$ | b) $\frac{3}{4}$ | c) $\frac{1}{2}$ | d) $\frac{3}{8}$ |
| ③ Als Rechteck: | a) $\frac{2}{5}$ | b) $\frac{5}{6}$ | c) $\frac{3}{10}$ | d) $\frac{16}{20}$ |
| ④ Als Quadrat: | a) $\frac{2}{4}$ | b) $\frac{5}{9}$ | c) $\frac{13}{16}$ | d) $\frac{2}{25}$ |
| ⑤ Deine Wahl: | a) $\frac{6}{11}$ | b) $\frac{3}{16}$ | c) $\frac{1}{3}$ | d) $\frac{5}{8}$ |