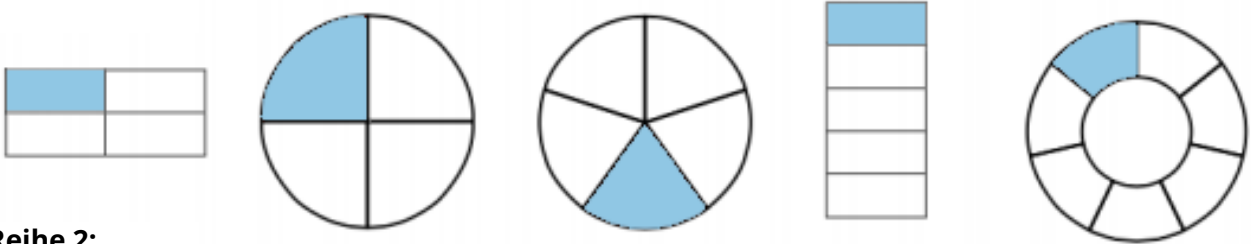
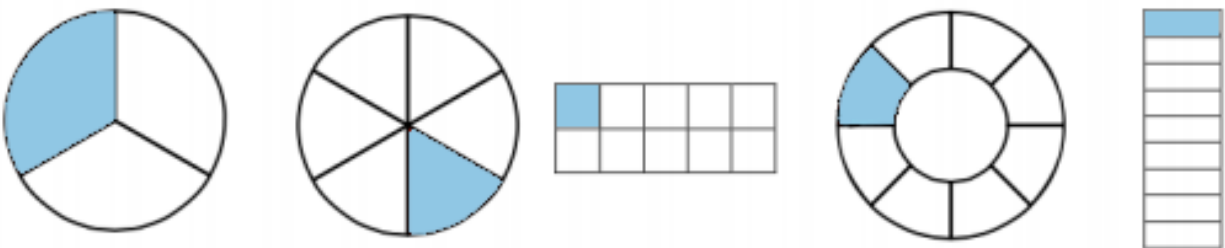


① Welche Brüche sind dargestellt? Schreibe deine Lösung in die Kästchen auf der nächsten Seite.

Reihe 1:



Reihe 2:



Reihe 3:




Reihe 4:



Reihe 5:





② Verbinde gleiche Anteile miteinander. Am Ende erhältst du ein Lösungswort!

1.	$\frac{1}{3}$		K
2.	$\frac{1}{4}$		D
3.	$\frac{1}{5}$		K
4.	$\frac{1}{10}$		A
5.	$\frac{1}{8}$		U
6.	$\frac{1}{2}$		A

Nenne das Lösungswort

○₁ ○₂ ○₃ ○₄ ○₅ ○₆