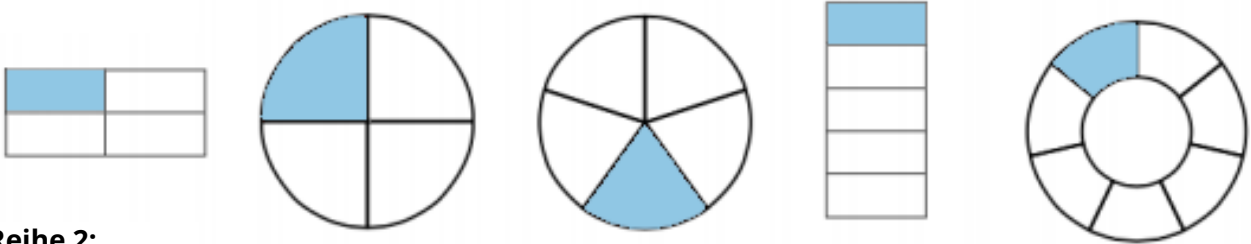
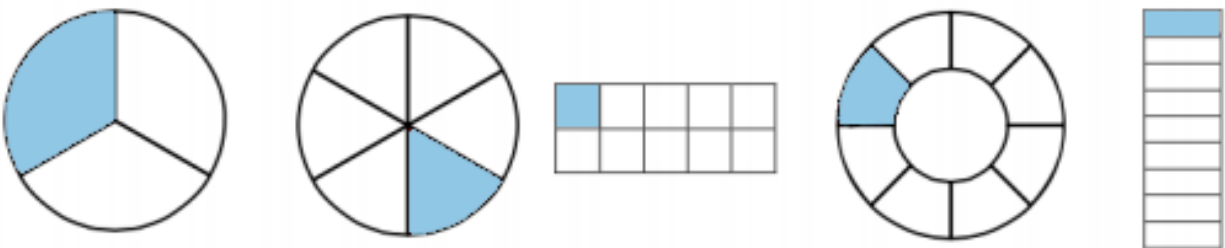


① Welche Brüche sind dargestellt? Schreibe deine Lösung in die Kästchen auf der nächsten Seite.

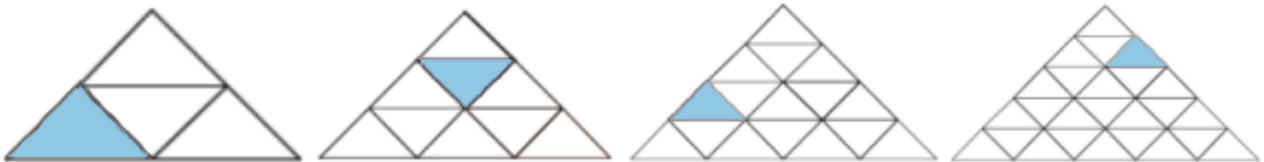
Reihe 1:



Reihe 2:



Reihe 3:




Reihe 4:



Reihe 5:





② Verbinde gleiche Anteile miteinander. Am Ende erhältst du ein Lösungswort!

1.	$\frac{1}{3}$		<b>K</b>
2.	$\frac{1}{4}$		<b>D</b>
3.	$\frac{1}{5}$		<b>K</b>
4.	$\frac{1}{10}$		<b>A</b>
5.	$\frac{1}{8}$		<b>U</b>
6.	$\frac{1}{2}$		<b>A</b>

Nenne das Lösungswort

○<sub>1</sub> ○<sub>2</sub> ○<sub>3</sub> ○<sub>4</sub> ○<sub>5</sub> ○<sub>6</sub>