

1 ✓



✂ Nimm die **Vorlage C** und schneide folgendes aus: **1 Kreis** und **2 Quadrate**

2 ✓

👉 Nimm den **Kreis** und falte ihn so, dass er **geachtelt** wird.

✂ Schneide zwei Achtel ab.



👉 Klebe je ein Achtel hier auf die grauen Kreise.

3 ✓

👉 Nimm beide **Quadrate** und falte auch sie so, dass sie **geachtelt** werden. Finde zwei unterschiedliche Möglichkeiten hierfür.

✂ Schneide auch hier jeweils ein Achtel ab.

👉 Klebe die Achtel jeweils hier auf die grauen Quadrate.



- 4 ✓ ✂ Nimm die **Vorlage C** und schneide folgendes aus:


2 Rechtecke und **4 Streifen**

- 5 ✓

👉 Nimm die **Rechtecke** und falte sie so, dass sie **geachtelt** werden. Finde zwei unterschiedliche Möglichkeiten hierfür.

✂ Schneide jeweils ein Achtel ab.

👉 Klebe die Achtel hier auf die grauen Rechtecke .



- 6 ✓

👉 Nimm die **Streifen** und falte sie so, dass sie **geachtelt** werden.

✂ Schneide bei allen jeweils ein Achtel ab.

👉 Klebe diese Achtel (bei der richtigen Länge) hier auf die Streifen.




$\frac{3}{4}$





AB: AchteIn [M]

Mathematik Bruchrechnen 5, 6

7



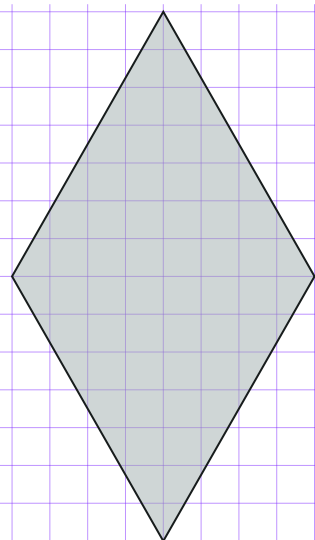
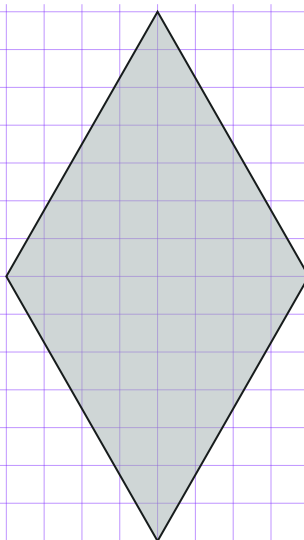
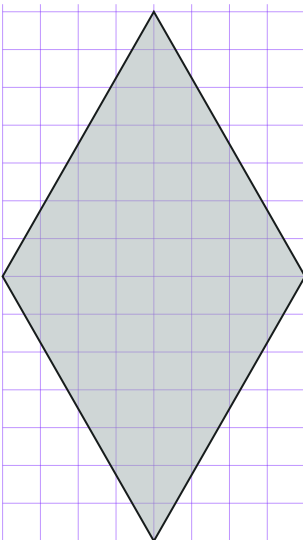






 Achte diese Alltagsgegenstände durchs Einzeichnen einer Linie (Bleistift + Lineal!).




8



Achtle die folgenden Vierecke. Färbe dazu ein Achtel. Achtung: Finde unterschiedliche Möglichkeiten.



9

 Achte die folgenden Figuren. Färbe dazu immer ein Achtel ein.