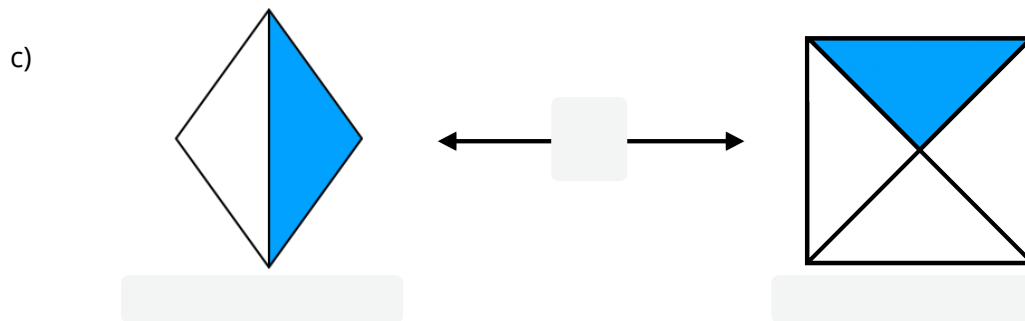
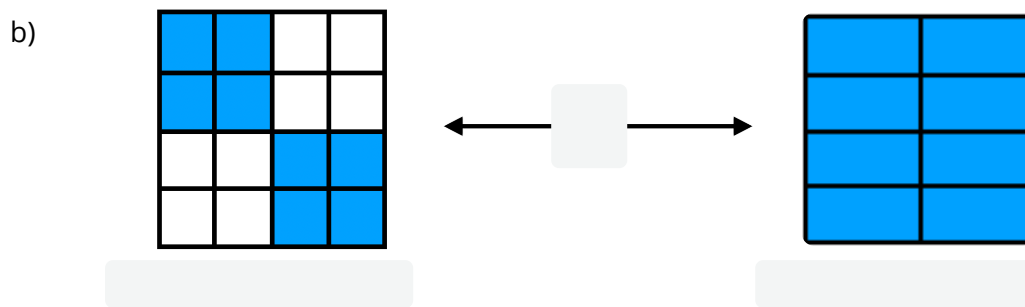
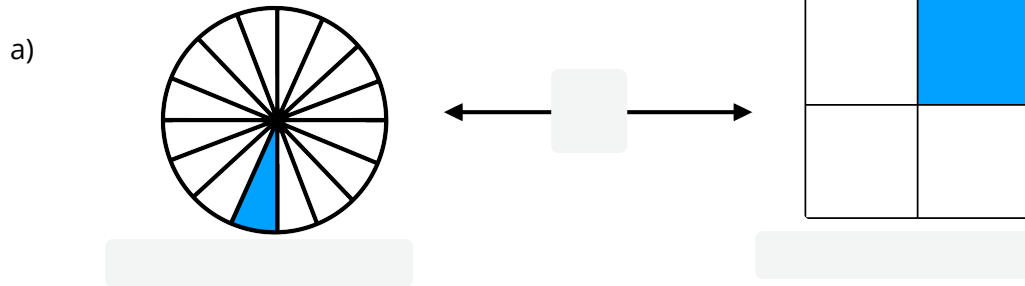


- ① Schreibe unter jede Grafik den richtigen Bruch und füge „<“ oder „>“ zwischen die zwei Grafiken ein.



- ② Vergleiche die zwei Brüche miteinander. Welcher Bruch ist größer? Setze die Zeichen „<“ und „>“ richtig in die grau gefärbten Lücken ein.

a)  $\frac{2}{4}$    $\frac{3}{4}$

b)  $\frac{1}{20}$    $\frac{1}{19}$

c)  $\frac{7}{200}$    $\frac{3}{200}$

d)  $\frac{1}{9}$    $\frac{1}{10}$

e)  $\frac{1}{21}$    $\frac{1}{22}$

f)  $\frac{1}{900}$    $\frac{1}{901}$

g)  $\frac{2}{3}$    $\frac{1}{3}$

h)  $\frac{8}{16}$    $\frac{7}{16}$

i)  $\frac{1}{300}$    $\frac{1}{200}$