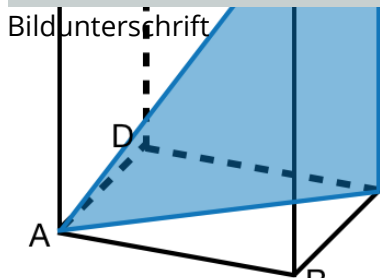
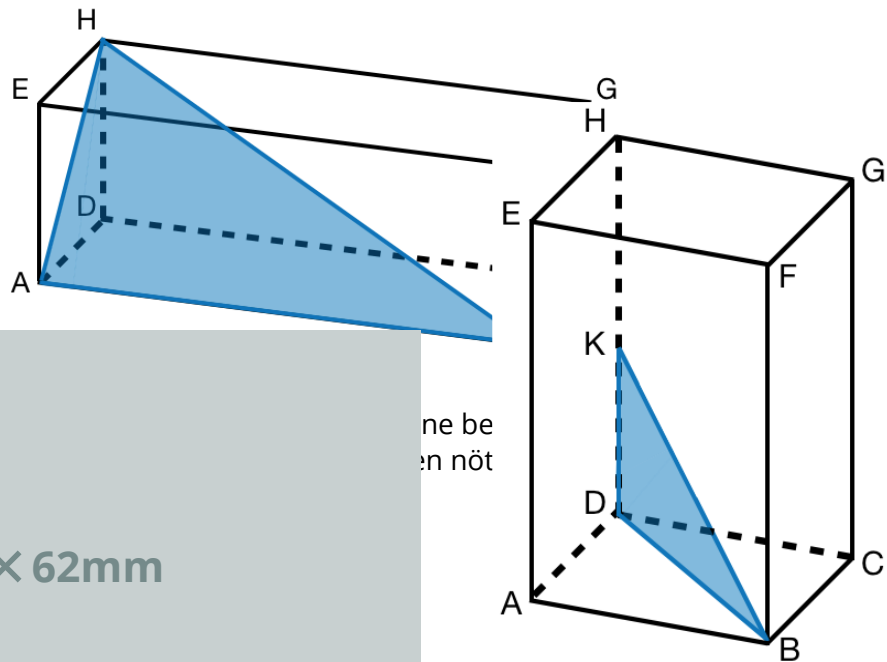




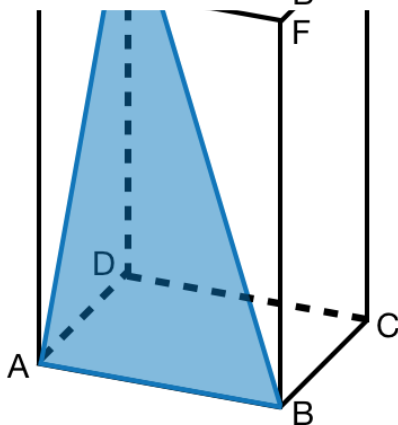
# AB: Grundaufgaben Pythagoras

Mathematik Flächen R 9

① Beschrifte die Flächendiagonale und die Raumdiagonale.



③ Bewerte deine Arbeitsleistung.



	sehr gut	gut	nicht so gut
Qualität	<input type="radio"/>	<input type="radio"/>	<input type="radio"/>
Selbstständigkeit	<input type="radio"/>	<input type="radio"/>	<input type="radio"/>
Tempo	<input type="radio"/>	<input type="radio"/>	<input type="radio"/>
Motivation	<input type="radio"/>	<input type="radio"/>	<input type="radio"/>



