



AB: LÖSUNG: Teste dein Wissen -1-

Musik

- ① Benenne die folgenden Noten mit ihren richtigen **Oktavbezeichnungen**.



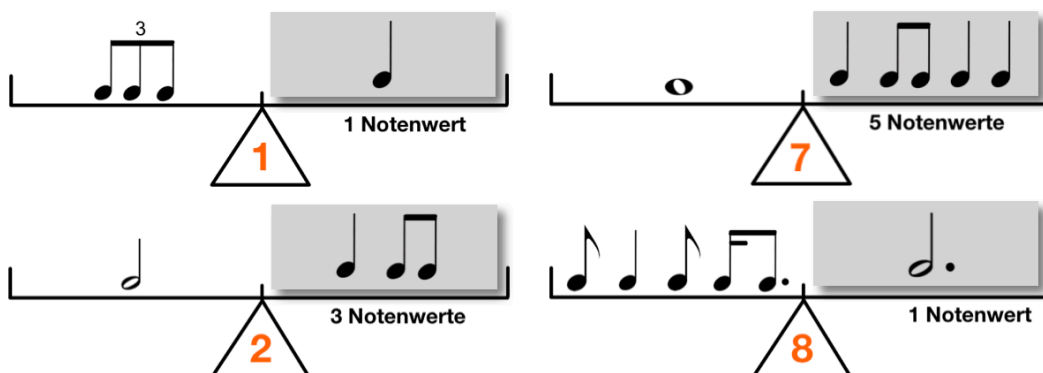
- ② Schreibe die angegebenen Noten in das Liniensystem. Achte auf die **Oktavbezeichnungen**.



- ③ Bilde zu den vorgegebenen Noten jeweils die **enharmonische Verwechslung**. Achte auf die **Oktavbezeichnungen**.



- ④ Bringe die **Rhythmuswaagen** ins Gleichgewicht. Achte auf die angegebenen Bedingungen.



AB: LÖSUNG: Teste dein Wissen -1-

Musik


⑤ Bestimme jeweils die richtige **Taktart**.




⑥ Schreibe die beiden **Dur-Tonleitern**.

- Zeichne zuerst den **Notenschlüssel** an den Anfang der Notenzeile.
- Schreibe dann die **Vorzeichen** der Tonart auf und notiere die Töne.
- Setze die **Halbtonschritte** an die richtige Stelle.
- Schreibe dann den **Dreiklang**.

D-Dur:




B-Dur:



AB: LÖSUNG: Teste dein Wissen -1-

Musik


⑦ Fülle den **Quintenzirkel** richtig aus.




AB: LÖSUNG: Teste dein Wissen -1-

Musik


⑧ Bestimme die **Intervalle** in der Grobbestimmung.



Quinte



Septime




Terz



Sexte

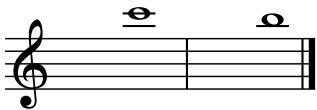


Quarte




Quinte


⑨ Schreibe die geforderten **Intervalle**. Achte auf die angegebene Richtung.



Sekunde (abwärts)




Sexte (aufwärts)



Quarte (abwärts)



Quarte (aufwärts)



Septime (abwärts)



Terz (aufwärts)

⑩ Übersetze die folgenden **musikalischen Fachausdrücke**.

Moderato = _____ Andante = _____ forte = _____

dolce = _____ Grave = _____ piano = _____

furioso = _____ Lento = _____ Presto = _____

maestoso = _____ mezzopiano = _____ serio = _____

tranquillo = _____ legato = _____ Vivace = _____

staccato = _____

