


- ① Du siehst zwei Bilder mit Äpfeln.
- Zähle** die Äpfel in jedem Bild.
  - Notiere** die Anzahl in das kleine gelbe Kästchen am Bild.
  - Verbinde** das Bild mit der passenden Ziffer am Zahlenstrahl.

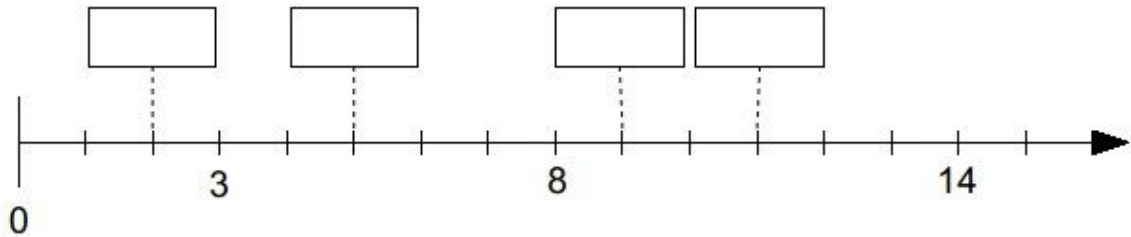


**Tipp**

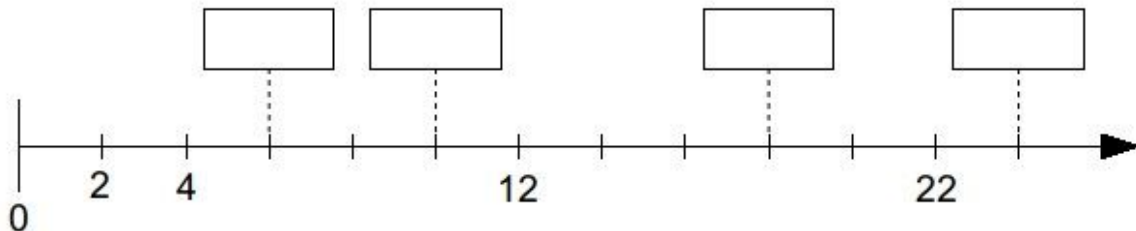
Zahlen sind gleichmäßig auf dem Zahlenstrahl angeordnet.

- ② Welche Zahlen gehören zu den Kästchen?  
**Trage sie ein.**

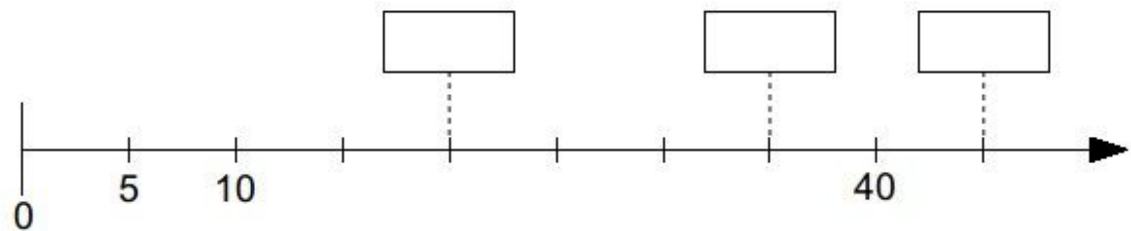
a)



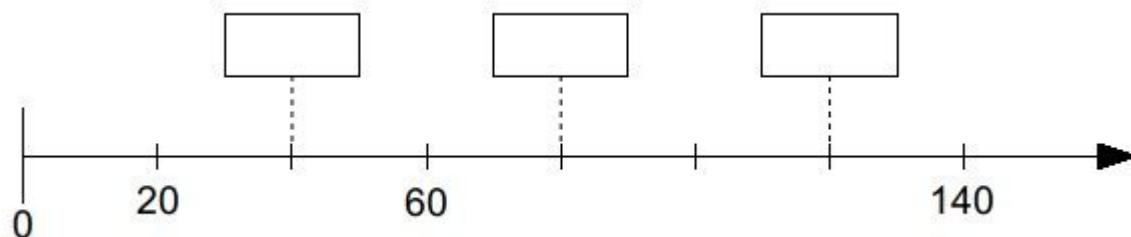
b)



c)



d)



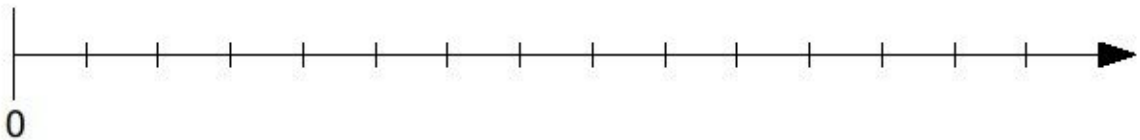
**Tipp**

Beschrifte den Zahlenstrahl wie in Aufgabe 2, sodass die größte Zahl draufpasst.

Achte auf eine passende Schrittgröße.

- ③ **Ergänze** zuerst die Beschriftung.  
**Trage** dann die Zahlen **ein**.

a) 10; 8; 13; 4; 3; 7



b) 90; 40; 20; 110; 70; 60

