

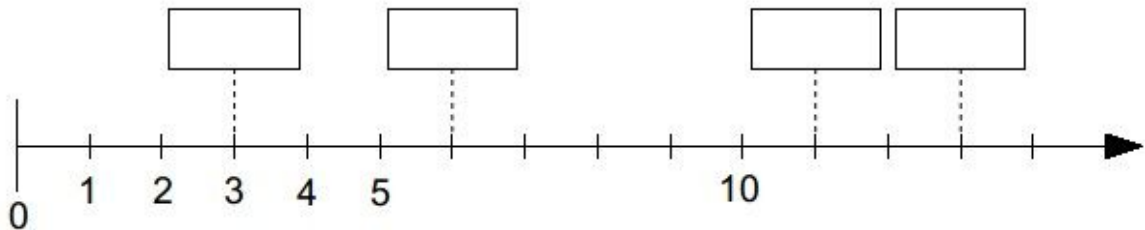
- ① Welche Zahlen sind gesucht?
Trage die Lösung **ein**.



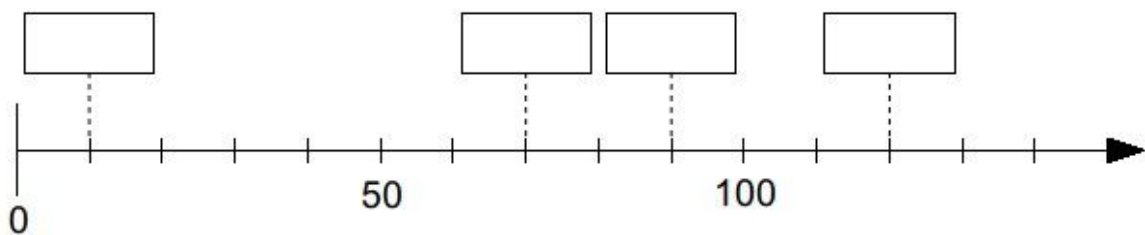
Tipp

In welchen Schritten zählt der Strahl?

a)



b)



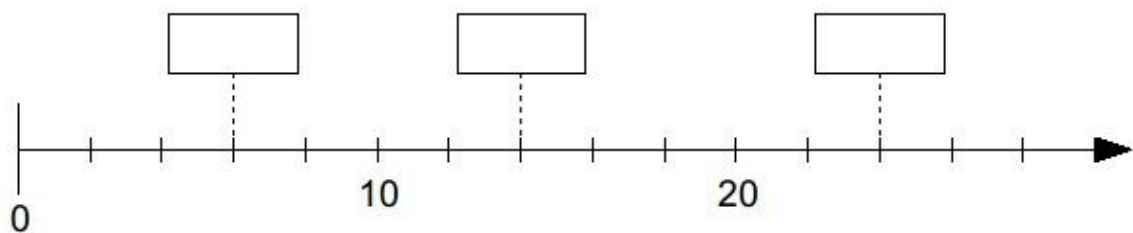
- ② **Notiere** zuerst die Schrittgröße.
Trage dann die gesuchten Zahlen **ein**.



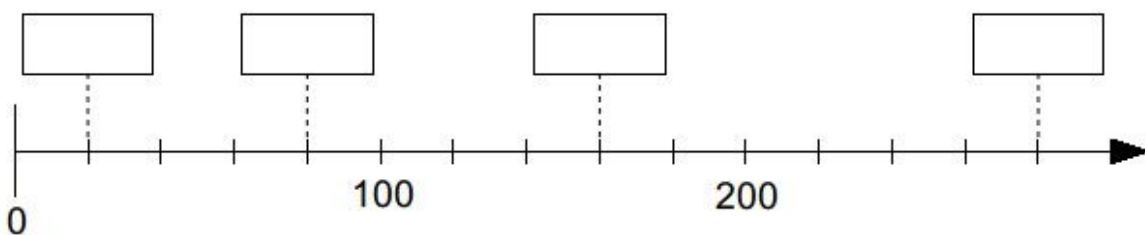
Schrittgröße

.. ist die Einteilung von einem „Strich“ zum anderen.

a) Schrittgröße: 2

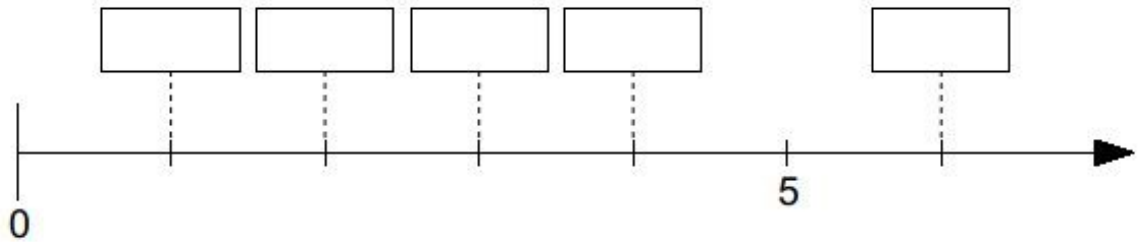


b) Schrittgröße:

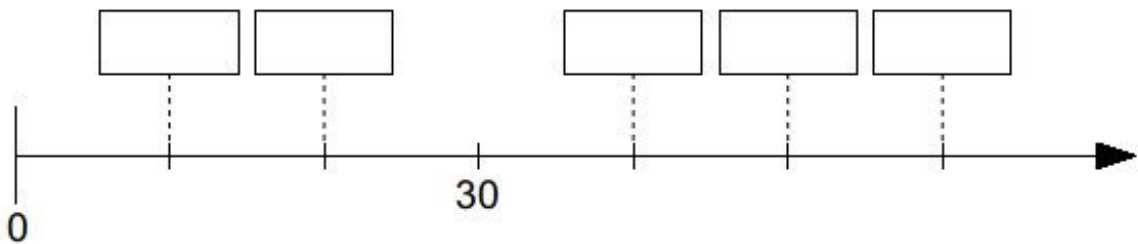


③ **Trage** alle gesuchten Zahlen **ein**.

a)

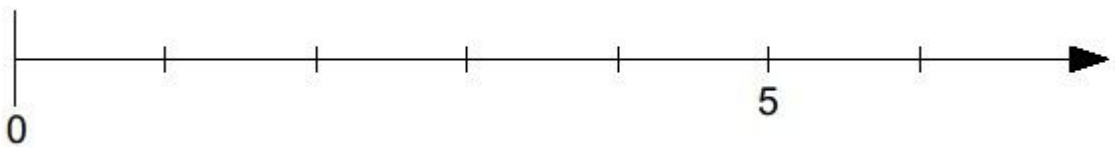


b)

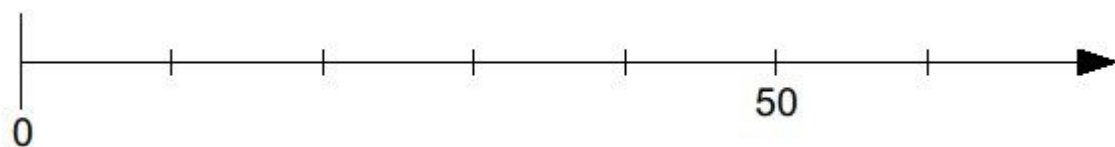


④ **Trage** die Zahlen an der passenden Stelle **ein**.

a) 2 und 4



b) 10 und 30



- ⑤ **Schau** dir das Video **an**, **bevor** du die nächste Aufgabe bearbeitest.

Zeichnen eines
Zahlenstrahls




Link:

<https://youtu.be/wMurvlrjqi0>


YouTube-
Video

- ⑥ **Zeichne** jeweils einen 10 cm langen Zahlenstrahl.
Teile den Strahl gleichmäßig **ein**.
Trage die Zahlen passend **ein**.

a) 2; 8; 9; 10



b) 10; 30; 50; 35



c) 100; 0; 300; 500

