




# AB: Rechnen mit Cent





Mathematik Größen R

Schreibe erst die Rechnung und dann die Lösung auf.

①

 +   
 = \_\_\_\_\_




②

  
 +   
 = \_\_\_\_\_

③

  
  
 +   
 = \_\_\_\_\_

④

  
 +  = \_\_\_\_\_

⑤

  
 +   
 = \_\_\_\_\_





# AB: Rechnen mit Cent

Mathematik Größen R

Schreibe erst die Rechnung und dann die Lösung auf.

①

 -  = \_\_\_\_\_



②

 -  = \_\_\_\_\_



③

 -  = \_\_\_\_\_

④

 -  = \_\_\_\_\_

⑤

 -  = \_\_\_\_\_






# AB: Rechnen mit Cent

Mathematik Größen R

Schreibe erst die Rechnung und dann die Lösung auf.

①



+

=

\_\_\_\_\_

②



-

=

\_\_\_\_\_

③



+

=

\_\_\_\_\_

④



+

=

\_\_\_\_\_

⑤



-

=

\_\_\_\_\_

