



AB: Sachaufgaben mit Geld rechnen

Mathematik Größen E

- ① **Gaby geht Obst und Gemüse auf dem Wochenmarkt einkaufen. Für Kartoffeln, Äpfel, Bananen und eine Melone muss Gaby 7,87 € zahlen. Gaby hat viele Münzen, aber keine Geldscheine dabei.**

Wie viele Münzen benötigt Gaby mindestens zum bezahlen? Schreibe die Anzahl der Münzen auf.

- ② **Ulf kauft sich am Kiosk Süßigkeiten für 3,59 € er bezahlt mit einem 5 Euro-Schein.**

Wie viel Wechselgeld bekommt Ulf zurück? Schreibe die Anzahl der Münzen auf.

- ③ **Lisa tankt ihren Wagen voll. Sie bezahlt an der Kasse 42,52 € mit einem 50 Euro-Schein.**

Wie viel Geld und welche Münzen und Scheine bekommt Lisa zurück?





Geld sparen



- ① Frank hat in seinem Sparschwein 15 Euro gespart. Bettina hat drei Mal so viel gespart.
Wie viel Geld hat Bettina gespart?

- ② Doris hat fünf 2 Euro Stücke und drei 1 Euro Stücke in seinem Sparschwein. Thorsten hat zwei 5 Euro Scheine und drei 50 Cent Stücke in seinem Sparschwein.
Wer hat wie viel Geld gespart?

- ③ Petra hat 20 Euro in ihrem Sparschwein. 2,50 € hat Petra vor Kurzem raus genommen. Bernd hat fünf 5 Euro Scheine und drei 50 Cent Stücke in seinem Sparschwein.
Wer hat wie viel Geld gespart?

- ④ Ute hat zwei Monate 5,50 Euro gespart. Sophie hat fünf Monate 1,50 Euro gespart.
Wer hat wie viel Geld gespart?







AB: Sachaufgaben mit Geld rechnen

Mathematik Größen E

Sparschwein-Parade

Finde heraus, welches Sparschwein wem gehört!

Male es in der richtigen Farbe an, schreibe den richtigen Namen darunter und schreibe den gesparten Betrag als Kommazahl über das Schweinchen!

<input type="text"/>	<input type="text"/>	<input type="text"/>	<input type="text"/>
			
<input type="text"/>	<input type="text"/>	<input type="text"/>	<input type="text"/>

- Max hat bereits 4 € und 53 ct in seinem hellblauen Sparschwein, das gleich neben dem hellgrünen Sparschwein von seiner Schwester steht, gespart. Von seinem Großvater bekommt er 3 € zugesteckt. Max steckt das 2. Sparschwein von rechts. Wie viel Geld hat er nun?
- Seine kleine Schwester Karola bekam in der letzten Woche jeden Tag 50 ct von ihrer Mutter.
- Daniel ist ein großer Sparmeister. Er putzt jeden Sonntag alle Schuhe der Familie und bekommt dafür Taschengeld. Im ersten Sparschwein sind schon 999 ct.
- Mama und Papa haben gemeinsam ein rotes Sparschwein. Da stecken die beiden alle kleinen Cent-Münzen hinein, die sie in ihren Geldbörsen finden.
Mama hat schon 28 1-Cent-Münzen hineingeworfen. Papa warf 7 1-Cent-Münzen und 13 2-Cent-Münzen hinein. Ihr Sparschwein steht gleich neben Daniels gelben Schweinchen.





Wem gehören die Geldbörsen?

Schreibe unter die Geldbörse was gekauft wurde und wem die Geldbörse gehört. Male sie richtig an! Schreibe den richtigen Restgeld-Betrag als Kommazahl über die Geldbörse.

- Roberta kauft sich einen Haarreifen für 2 € und 40 ct. Sie bezahlt mit einem 5 €-Schein. Das Restgeld steckt sie in ihre gelbe Geldbörse ganz rechts.
- Ihre kleine Schwester Helena hat 2 €. Sie darf sich einen Nagellack in ihrer Lieblingsfarbe rosa kaufen. Er kostet nur 90ct. Helena gibt ihr Restgeld in die zweite Börse von links.
- Großmutter Erna hat eine alte, braune Ledergeldbörse. Sie kauft für ihre beiden Enkelkinder je ein Schokoherz für 1,20 €. Oma Erna bezahlt mit zwei 2 €-Münzen. Sie steckt das Restgeld in die Geldbörse zwischen ihren Enkelinnen.
- In der ersten Geldbörse sind 15 2-Cent-Münzen, 6 5-Cent-Münzen und 2 20-Cent-Münzen. Susanna kauft sich einen grünen Glitzerstift für 1 €. Der Stift hat die selbe Farbe wie ihre Geldbörse.