

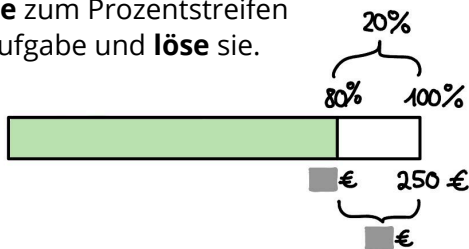


AB: Verminderter und vermehrter Grundwert

Mathematik Prozent M 8

- ① Die Schuhe kosten 60 €.
Berechne die Aufgaben mit dem Dreisatz und schreibe einen Antwortsatz.
- Wie viel kosten die Schuhe nach einer Preiserhöhung um 25 %?
 - Wie viel kosten die Schuhe bei einem Preisnachlass von 10 %?


- ③ **Erfinde** zum Prozentstreifen eine Aufgabe und **löse** sie.



- ② Insgesamt sind noch 35 g Zucker in der Schokolade.
 Wie viel Zucker war vorher in der Schokolade enthalten?
Berechne die Aufgaben mit dem Dreisatz und schreibe einen Antwortsatz.

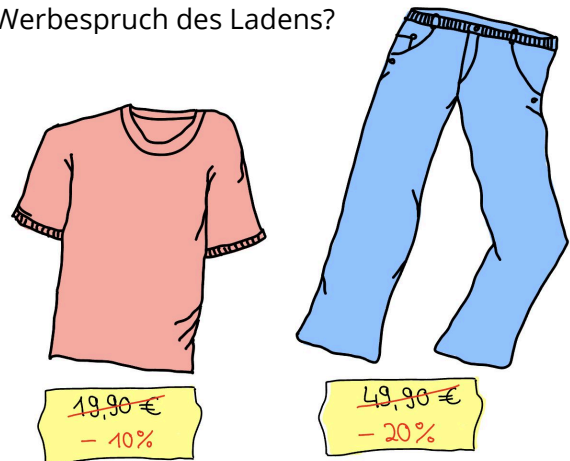


- ④ Die Schokolade hat ursprünglich 3,25 € gekostet. Wie viel kostet sie nun abzüglich des Probiertes?
Berechne die Aufgaben mit dem Dreisatz und schreibe einen Antwortsatz.



- ⑤ Ein Laden wirbt im Schaufenster:
„Kaufen Sie beide, dann haben sie 30 % gespart.“
Berechne die Aufgaben mit dem Dreisatz und schreibe einen Antwortsatz.

- Wie viel Euro spart man, wenn man beide Artikel kauft?
- Stimmt der Werbespruch des Ladens?



- ⑥ Hier hat sich ein Fehler eingeschlichen.
Finde und korrigiere ihn.

