

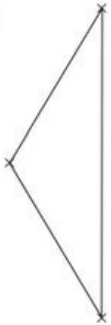


Dreieckstypen

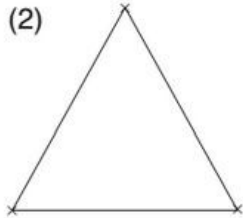
Mathematik Messen R 6

① **Bestimme** durch Messen der Seitenlängen, um welche Dreiecksart es sich handelt.

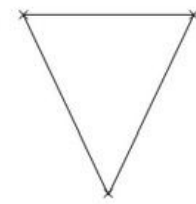
(1)



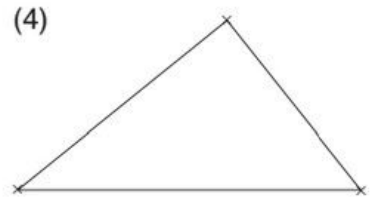
(2)



(3)



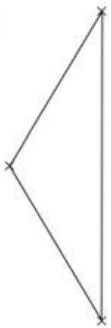
(4)



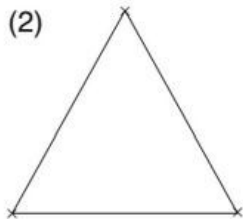
	1	2	3	4
verschiedenseitig	<input type="radio"/>	<input type="radio"/>	<input type="radio"/>	<input type="radio"/>
gleichseitig	<input type="radio"/>	<input type="radio"/>	<input type="radio"/>	<input type="radio"/>
gleichschenkelig	<input type="radio"/>	<input type="radio"/>	<input type="radio"/>	<input type="radio"/>

② **Bestimme** durch Messen der Winkel, um welche Dreiecksart es sich handelt.

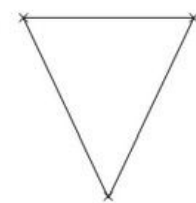
(1)



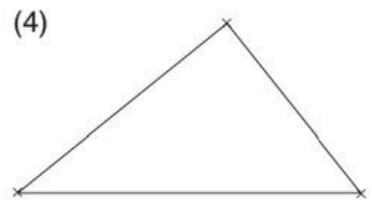
(2)



(3)



(4)



	1	2	3	4
rechtwinklig	<input type="radio"/>	<input type="radio"/>	<input type="radio"/>	<input type="radio"/>
spitzwinklig	<input type="radio"/>	<input type="radio"/>	<input type="radio"/>	<input type="radio"/>
stumpfwinklig	<input type="radio"/>	<input type="radio"/>	<input type="radio"/>	<input type="radio"/>



Dreieckstypen

Mathematik Messen R 6



Mascha

Jedes spitzwinklige Dreieck ist gleichseitig.


Stimmt doch gar nicht!



Arven

? Frage

Wer von den beiden hat Recht?
Belege deine Antwort mit einer Zeichnung.
Zeige einer Lernbegleitung dein Ergebnis und erkläre es.



③ **Bearbeite** alle drei Übungsapps.

- **Fertige** am Ende einen Screenshot vom Ergebnis **an**.



[App 1](#)

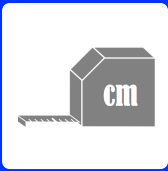


[App 2](#)



[App 3](#)





Dreieckstypen

Mathematik Messen R 6

④ **Bearbeite** auch die folgenden Übungen online.



[Übung 4](#)



[Übung 5](#)

⑤ **Markiere** alle Wörter, die etwas mit Dreiecken zu tun haben.

D L E R D B E E E R E F A T G J V T
R U K R E I S N Q Ö W I N K E L E G
E Q B U R G E R S E I T E C G R Ä Z
I A M K G H G L E I C H S E I T I G
E L N S P I T Z W I N K L I G A D U
C L R E C H T W I N K L I G U Ä G Z
K G T Z E S T U M P F W I N K L I G
I E A X X D A Z P E C K E Ö C K B U
R M O A T I M A U S F V N I S R X L
Z E R G R A D D J T R P D H X W C Ö
H I S C H E I T E L X H A N D Y Z Z
W N U G L E I C H S C H E N K L I G
N K Ü Q Ä G T G K C R G C J A I C Ü
M D P W N L G W C O M P U T E R Ä R