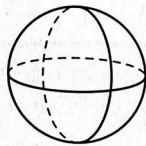
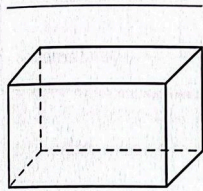
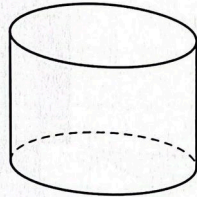
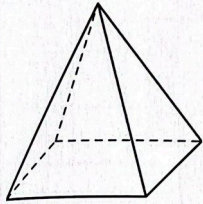
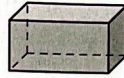


1 Schreibe die Namen der geometrischen Körper auf.



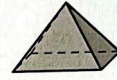
Geometrische Körper



Quader



Würfel



Pyramide



Zylinder



Kegel



Kugel

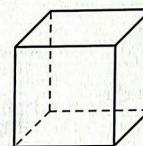
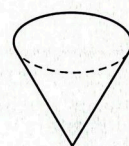


Fig. 1

2 Fülle die Tabelle aus.

	Pyramide	Quader				Kegel
Anzahl der Flächen	5		1			
Anzahl der Kanten				2		
Anzahl der Ecken					8	

3 ☆ Die Körper in Fig. 2 und Fig. 3 sind aus einfachen Körpern zusammengesetzt. Schreibe auf, aus welchen Grundformen die Körper bestehen.

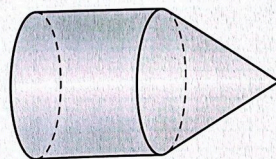


Fig. 2

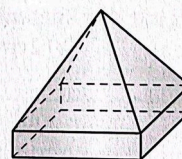
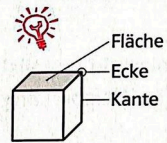


Fig. 3



Flächen
begrenzen geometrische Körper.

Kanten
entstehen dort, wo Flächen zusammentreffen.

Ecken
entstehen dort, wo mindestens drei Flächen zusammentreffen.

