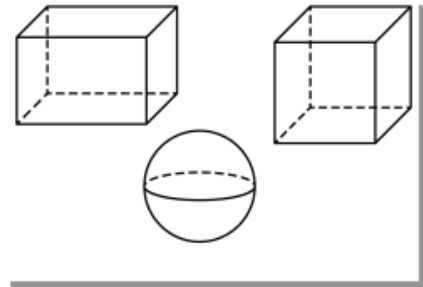






- 1 Eva hat im Kunstunterricht ein Bild gezeichnet.
Welche Körper findest du auf dem Bild?



- 2 Betrachte den Würfel und den Quader.

- a) Trage die richtigen Zahlen in die Tabelle ein.

	 Quader	 Würfel
		
Anzahl der Flächen		
Anzahl der Ecken		
Anzahl der Kanten		

- b) Was fällt dir auf, wenn du deine Ergebnisse betrachtest?

- c) Was sind die Unterschiede zwischen Würfel und Quader?

Kreuze die richtigen Antworten an.

- Ein Quader ist immer größer als ein Würfel.
- Der Würfel hat 6 gleich große Flächen, der Quader nicht.
- Beim Quader sind nur die nebeneinander liegenden Flächen gleich groß.
- Beim Quader sind nur die gegenüber liegenden Flächen gleich groß.

- 3 Welche geometrischen Körper erkennst du in diesen Gegenständen?

