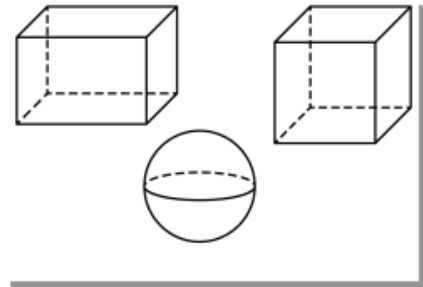




1 Eva hat im Kunstunterricht ein Bild gezeichnet.
Welche Körper findest du auf dem Bild?



2 Betrachte den Würfel und den Quader.

a) Trage die richtigen Zahlen in die Tabelle ein.

	💡 Quader	💡 Würfel
		
Anzahl der Flächen		
Anzahl der Ecken		
Anzahl der Kanten		

b) Was fällt dir auf, wenn du deine Ergebnisse betrachtest?

c) Was sind die Unterschiede zwischen Würfel und Quader?

Kreuze die richtigen Antworten an.

- Ein Quader ist immer größer als ein Würfel.
- Der Würfel hat 6 gleich große Flächen, der Quader nicht.
- Beim Quader sind nur die nebeneinander liegenden Flächen gleich groß.
- Beim Quader sind nur die gegenüber liegenden Flächen gleich groß.

3 Welche geometrischen Körper erkennst du in diesen Gegenständen?

