



AB: Sachterme aufstellen


Mathematik Messen R 5

- ① **Stelle die Sachterme für folgende Umfänge und Flächen auf und trage die Benennung der Teilflächen in die Zeichnung ein.**

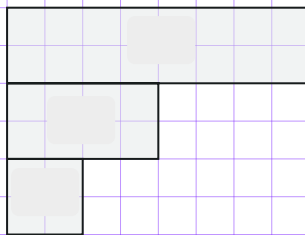
Welche Fläche bei dir A_1 , A_2 , .. heißt, kann natürlich anders sein, als auf der Lösung!

Wenn du möchtest, kannst du zur Übung auch noch die Gesamtfläche oder den Umfang ausrechnen (1 Kästchen = 5mm).

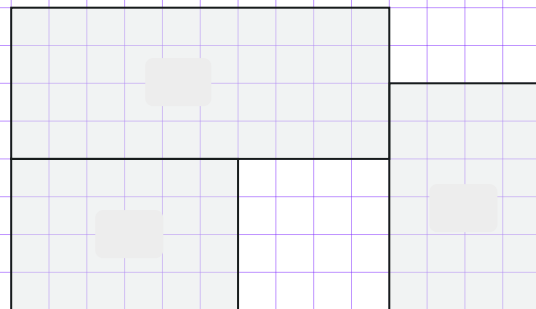
Aufgabe 1



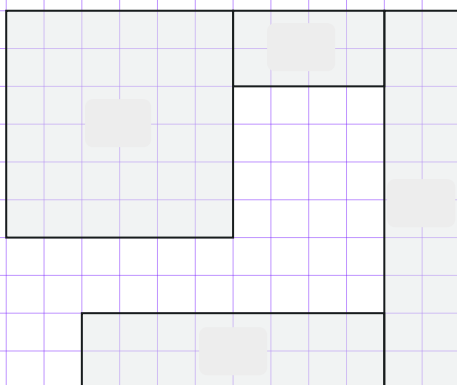
Aufgabe 2



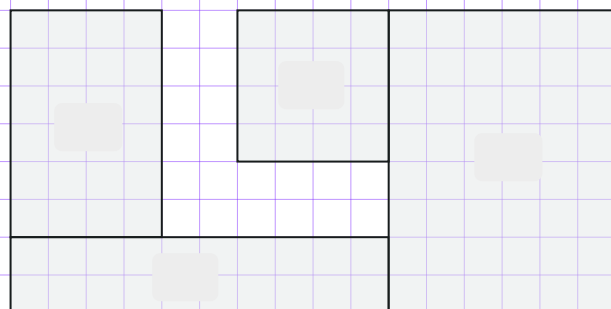
Aufgabe 3



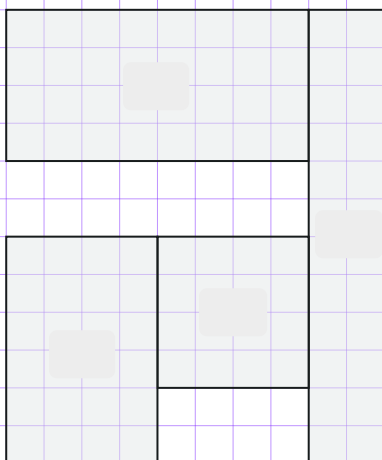
Aufgabe 4



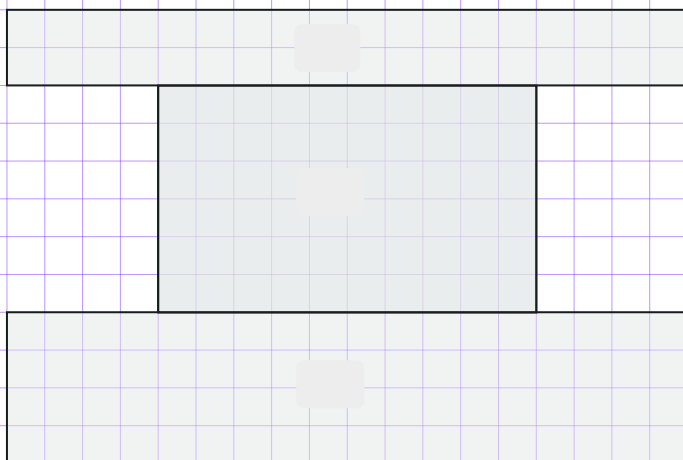
Aufgabe 5



Aufgabe 6



Aufgabe 7





AB: Sachterme aufstellen

Mathematik Messen R 5

Nr	Sachterm	Ergebnis
1	$A_{(gesamt)} = A_1 + A_2$ $U_{(gesamt)} = a + b + c + d + e +$	$= 5cm^2$ $= 10cm$
2	$A_{(gesamt)} =$ <input type="text"/> $U_{(gesamt)} =$ <input type="text"/>	$=$ <input type="text"/> $=$ <input type="text"/>
3	$A_{(gesamt)} =$ <input type="text"/> $U_{(gesamt)} =$ <input type="text"/>	$=$ <input type="text"/> $=$ <input type="text"/>
4	$A_{(gesamt)} =$ <input type="text"/> $U_{(gesamt)} =$ <input type="text"/>	$=$ <input type="text"/> $=$ <input type="text"/>
5	$A_{(gesamt)} =$ <input type="text"/> $U_{(gesamt)} =$ <input type="text"/>	$=$ <input type="text"/> $=$ <input type="text"/>
6	$A_{(gesamt)} =$ <input type="text"/> $U_{(gesamt)} =$ <input type="text"/>	$=$ <input type="text"/> $=$ <input type="text"/>
7	$A_{(gesamt)} =$ <input type="text"/> $U_{(gesamt)} =$ <input type="text"/>	$=$ <input type="text"/> $=$ <input type="text"/>

