



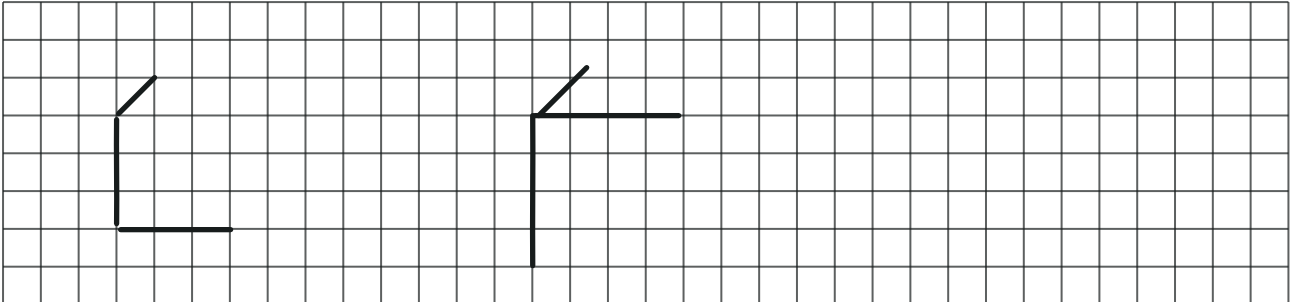
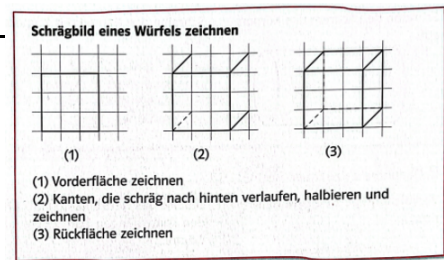
# AB: Schrägbilder zeichnen

Mathematik Körper M 6

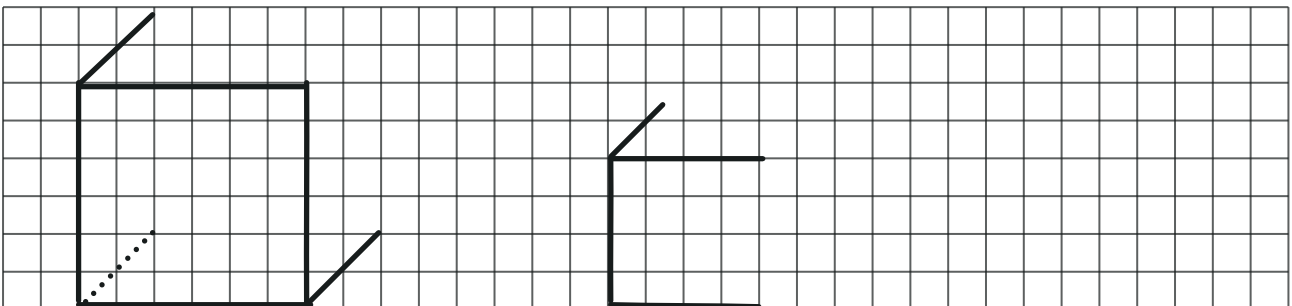
## Schrägbilder zeichnen

① Vervollständige zu einem Schrägbild eines Würfels mit

- a) Kantenlänge 1,5 cm
- b) Kantenlänge 2 cm



② Vervollständige die Schrägbilder des Würfels mit der Kantenlänge 3 cm und 2 cm.



③ Vervollständige das Schrägbild des Quaders mit den Kantenlängen 6cm, 3cm und 2cm.

