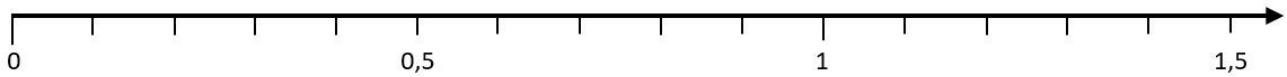
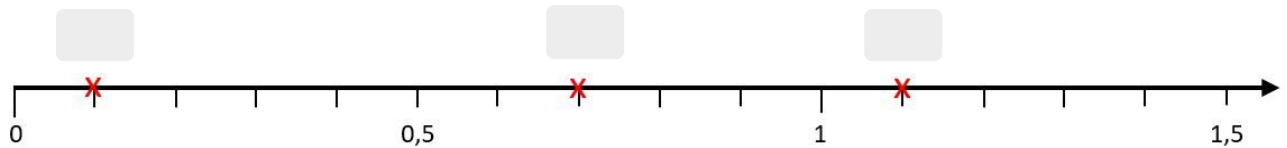


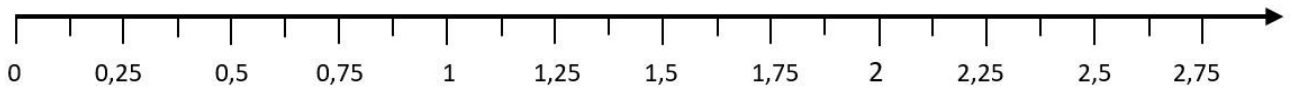
- ① Markiere die Zahlen 0,2 und 0,5 sowie 1,3 auf dem Zahlenstrahl.



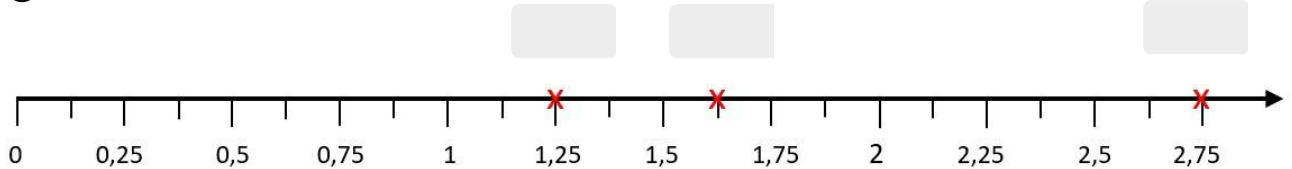
- ② Gib an, welche Zahlen auf dem Zahlenstrahl markiert sind.



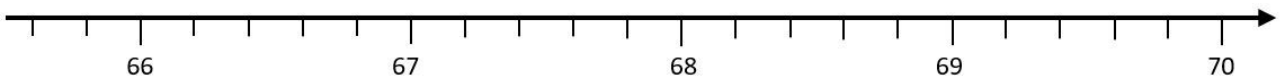
- ③ Markiere die Zahlen 0,75 und 1,5 sowie 2,375 auf dem Zahlenstrahl.



- ④ Gib an, welche Zahlen auf dem Zahlenstrahl markiert sind.



- ⑤ Markiere die Zahlen 66,6 und 68,5 sowie 69,8 auf der Zahlengeraden.



- ⑥ Zeichne einen Zahlenstrahl der Länge 12 cm. Dabei soll 1 cm auf dem Papier 0,2 entsprechen. Markiere auf dem Zahlenstrahl die Zahlen 0,8 und 1,4 sowie 1,9.

