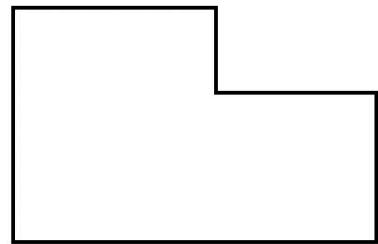

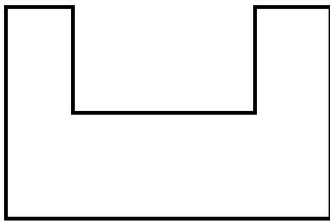

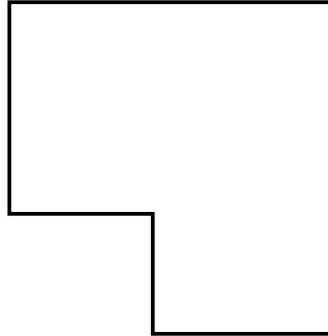




AB: Finde den Umfang

Mathematik Messen M 5

- ① So könnte die Koppel für Jonas' Pferd auch aussehen.
Markiere den Umfang jeder Fläche mit **roter Farbe**.



- ② Fotografiere fünf Flächen und markiere auf dem Foto den Umfang der Fläche.

- Hier siehst du ein Beispiel. Es wurde ein Vesperbrett fotografiert und der Umfang in der App „Fotos“ markiert.
- Frage deinen Lernbegleiter, ob du alles richtig gemacht hast.

