



AB: Flächeneinheiten benennen

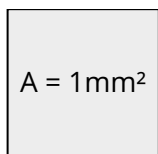
Mathematik Messen M 5

① Wie lautet die Flächeneinheit für ein Quadrat mit folgender Seitenlänge:

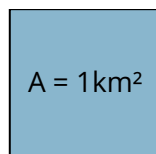
Seitenlänge	Abkürzung der Flächeneinheit	Flächeneinheit ausgeschrieben
$1mm$	$1mm^2$	Quadratmillimeter
$1cm$		
$1dm$		
$1m$		
$10m$		
$100m$		
$1km$		

② Hier siehst du Quadrate mit der Angabe des Flächeninhaltes. Wie lange sind die Seiten?

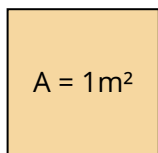
Da z.B. ein Quadrat mit der Seitenlänge $a = 1m$ nicht auf diese Seite passt, stimmt die Darstellung natürlich nicht mit der realen Größe überein!



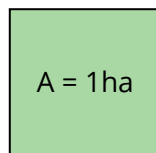
Seite $a =$



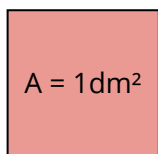
Seite $a =$



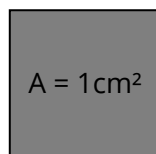
Seite $a =$



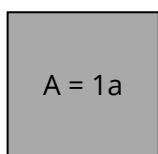
Seite $a =$



Seite $a =$



Seite $a =$



Seite $a =$

