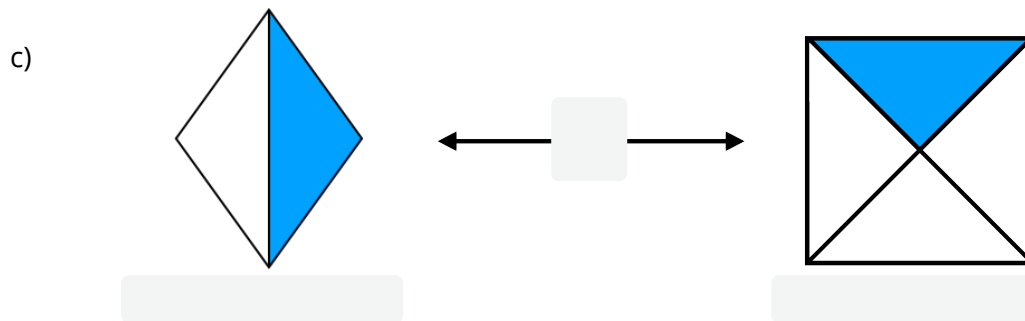
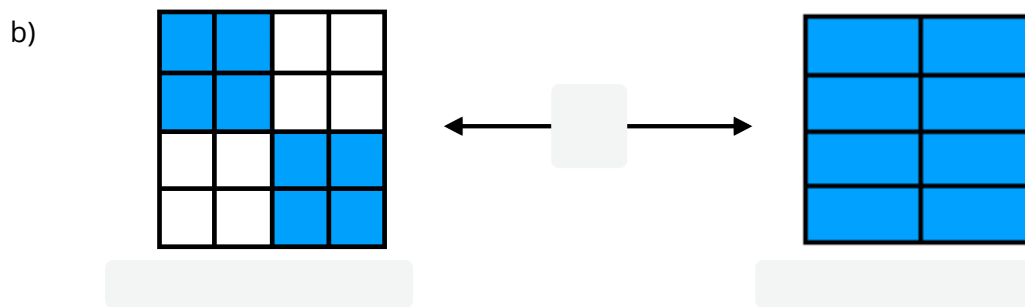
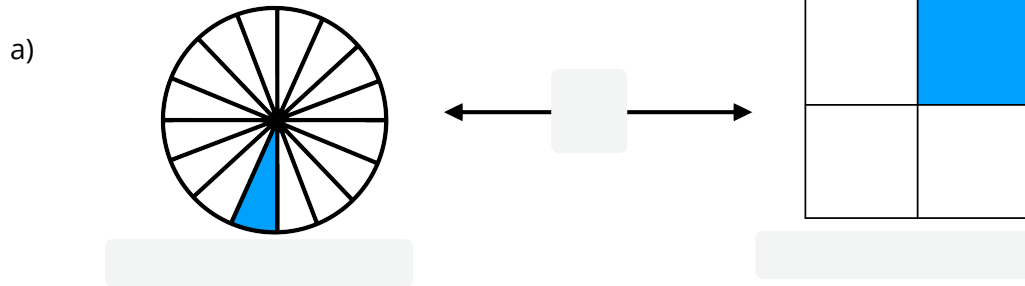


- ① Schreibe unter jede Grafik den richtigen Bruch und füge „<“ oder „>“ zwischen die zwei Grafiken ein.



- ② Vergleiche die zwei Brüche miteinander. Welcher Bruch ist größer? Setze die Zeichen „<“ und „>“ richtig in die grau gefärbten Lücken ein.

a) $\frac{2}{4}$ $\frac{3}{4}$

b) $\frac{1}{20}$ $\frac{1}{19}$

c) $\frac{7}{200}$ $\frac{3}{200}$

d) $\frac{1}{9}$ $\frac{1}{10}$

e) $\frac{1}{21}$ $\frac{1}{22}$

f) $\frac{1}{900}$ $\frac{1}{901}$

g) $\frac{2}{3}$ $\frac{1}{3}$

h) $\frac{8}{16}$ $\frac{7}{16}$

i) $\frac{1}{300}$ $\frac{1}{200}$