




AB: LÖSUNG: Intervalle schreiben

Musik JMLA Bronze

① Grobbestimmung Intervalle

Zeichne die fehlende Note, damit das Intervall entsteht.
Achte auf die **vorgegebene Richtung** in der Klammer.



①

Quinte (aufwärts)

②

Septime (abwärts)

③

Terz (aufwärts)

④

Quarte (aufwärts)

⑤

Sekunde (abwärts)

⑥

Oktave (abwärts)

⑦

Sexte (aufwärts)

⑧

Quinte (aufwärts)

⑨

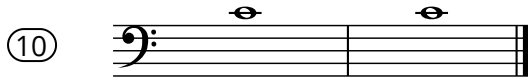
Terz (abwärts)






AB: LÖSUNG: Intervalle schreiben

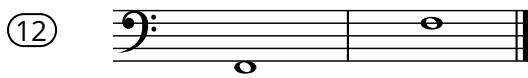
Musik JMLA Bronze




Prime



Quarte (abwärts)




Oktave (aufwärts)



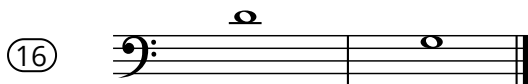
Sexte (abwärts)



Terz (aufwärts)



Sekunde (aufwärts)



Quinte (abwärts)



Quarte (aufwärts)



Septime (aufwärts)



Sexte (abwärts)

