

Name Lernpartner/in:

Name Lernbegleiter/in:

Datum:

① Hier werden natürliche Zahlen beschrieben. Ermittle die gesuchten Zahlen.

/ 3

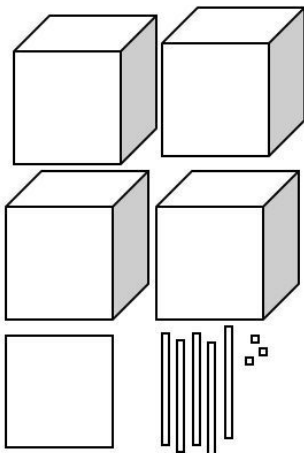
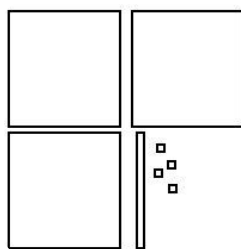
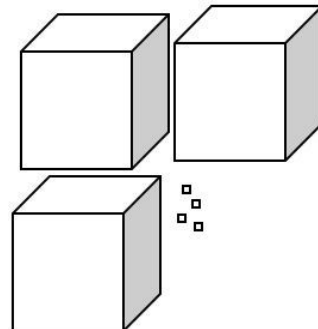
a) Die Zahl ist die größte zweistellige Zahl.

b) Die Zahl ist größer als 512 und kleiner als 514.

c) Die Zahl ist der kleine Nachbarhunderter von 731.

② Ermittle, welche Zahlen mit Tausenderwürfeln, Hunderterplatten, Zehnerstangen und Einerwürfeln dargestellt wurden.

/ 3

a) b) c) 

③ Stelle die Zahlen mit Tausenderwürfeln, Hunderterplatten, Zehnerstangen und Einerwürfeln dar. Verwende dafür zusätzliches Papier.

/ 3

a) 212

b) 3.507

c) 1.238



⑧ Runde die Zahlen.

/ 6

a) auf Zehner

38 ≈

703 ≈

b) auf Hunderter

516 ≈

2.546 ≈

c) auf Tausender

3.999 ≈

8.546 ≈



### Wichtig!

Wenn du den Gelingensnachweis beendet hast, tackere alle Blätter zusammen, loche sie und gib sie bei deinem Lernbegleiter / deiner Lernbegleiterin ab.

Du hast  von 30 Punkten erreicht (bestanden bei 25 Punkten).



bestanden



nicht bestanden

Datum/Kürzel:

