

Name Lernpartner/in:

Name Lernbegleiter/in:

Datum:

① Hier werden natürliche Zahlen beschrieben. Ermittle die gesuchten Zahlen.

/ 3

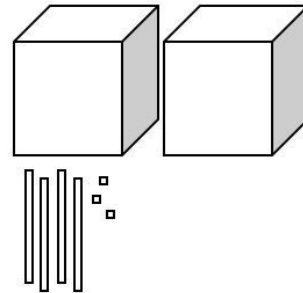

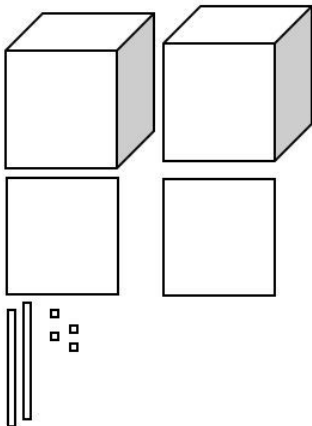
a) Die Zahl ist zweistellig und enthält nur Achten.

b) Die Zahl liegt in der Mitte von 20 und 60.

c) Die Zahl ist der große Nachbarhunderter von 548.

② Ermittle, welche Zahlen mit Tausenderwürfeln, Hunderterplatten, Zehnerstangen und Einerwürfeln dargestellt wurden.

/ 3

a) b) c) 

③ Stelle die Zahlen mit Tausenderwürfeln, Hunderterplatten, Zehnerstangen und Einerwürfeln dar. Verwende dafür zusätzliches Papier.

/ 3

a) 137

b) 1.102

c) 2.650



⑧ Runde die Zahlen.

/ 6

a) auf Zehner

75 ≈

98 ≈

b) auf Hunderter

221 ≈

3.419 ≈

c) auf Tausender

6.811 ≈

7.238 ≈



### Wichtig!

Wenn du den Gelingensnachweis beendet hast, tackere alle Blätter zusammen, loche sie und gib sie bei deinem Lernbegleiter / deiner Lernbegleiterin ab.

Du hast  von 30 Punkten erreicht (bestanden bei 25 Punkten).



bestanden



nicht bestanden

Datum/Kürzel:

