



GN: Messen R 6 (A)

Mathematik Messen R 6

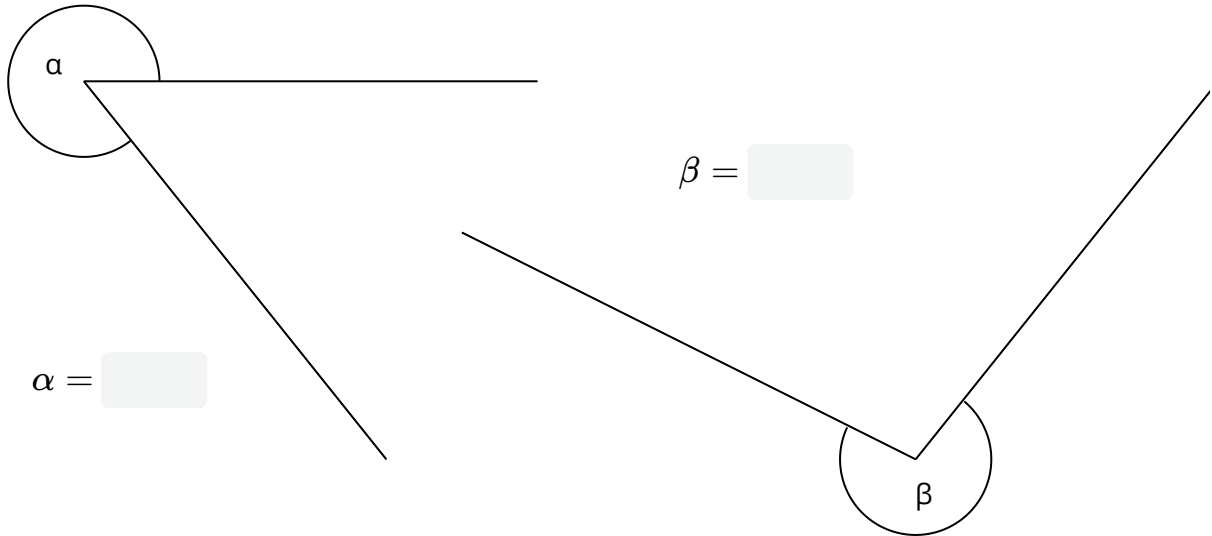
Name Lernpartner/in:

Name Lernbegleiter/in:

Datum:

① Wie groß sind die gesuchten Winkel ($\pm 1^\circ$)?

/ 2



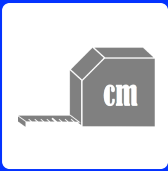
② Zeichne folgende Winkel ($\pm 1^\circ$) auf diesem Blatt.

/ 2

a) $\alpha = 216^\circ$

b) $\beta = 305^\circ$






GN: Messen R 6 (A)

Mathematik Messen R 6

③ **Zeichne folgende Dreiecke auf diesem Blatt.**

/ 4

- a) Spitzwinkliges Dreieck
- b) Gleichschenkliges Dreieck



④ **Zeichne in folgende Dreiecke die gesuchte Höhe (h_a , h_b oder h_c) ein.**

/ 6

