

# GN: Messen R 6 (B)

Mathematik Messen R 6

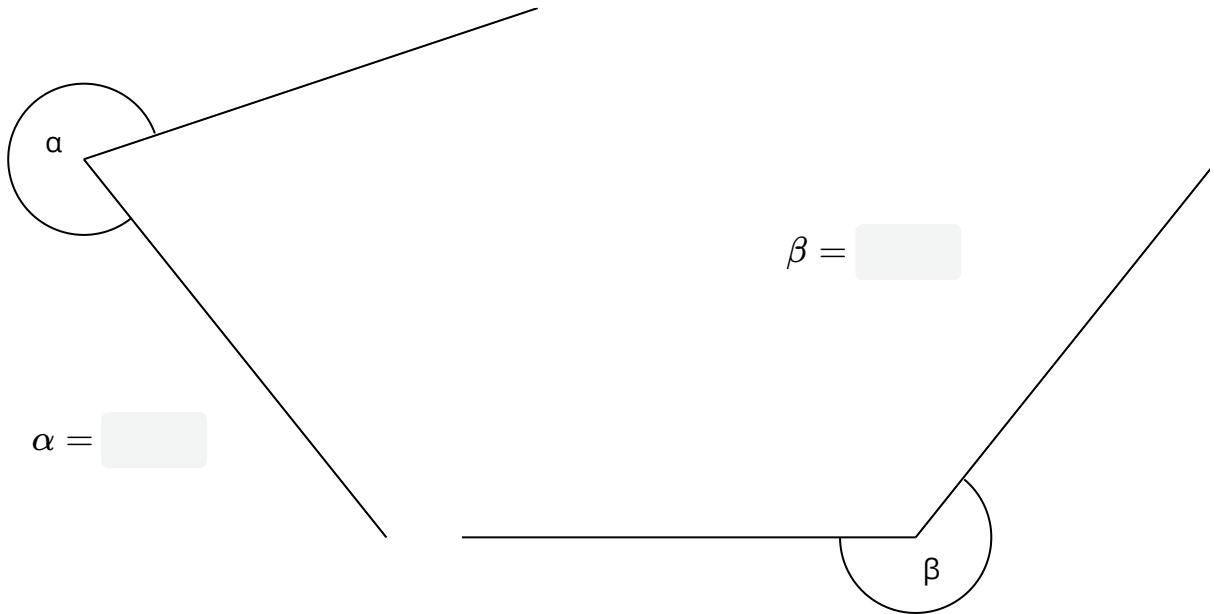
Name Lernpartner/in:

Name Lernbegleiter/in:

Datum:

① Wie groß sind die gesuchten Winkel ( $\pm 1^\circ$ )?

/ 2



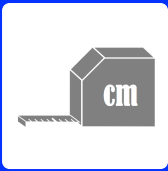
② Zeichne folgende Winkel ( $\pm 1^\circ$ ) auf diesem Blatt.

/ 2

a)  $\alpha = 246^\circ$

b)  $\beta = 320^\circ$





# GN: Messen R 6 (B)


Mathematik Messen R 6

③ **Zeichne folgende Dreiecke auf diesem Blatt.**

/ 4

a) Rechtwinkliges Dreieck

b) Gleichseitiges Dreieck



④ **Zeichne in folgende Dreiecke die gesuchte Höhe ( $h_a$ ,  $h_b$  oder  $h_c$ ) ein.**

/ 6

