



AB: Parkettieren (2)

Mathematik Messen M 5

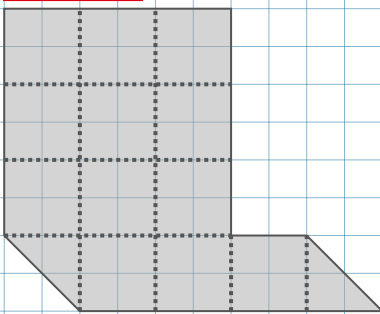
① **Wie viele Einheitsquadrate passen in die hier aufgeführten Flächen?**

Das grüne Einheitsquadrat findest du rechts unten.

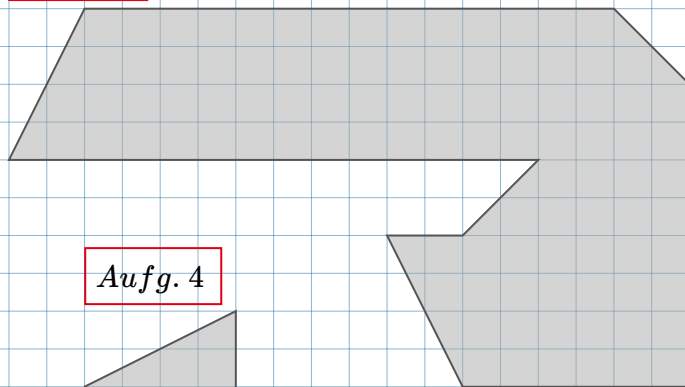
- Unterteile die Flächen in Einheitsquadrate und zähle, wie viele Einheitsquadrate in die Fläche passen.

Du kannst dir auch eigene Einheitsquadrate (1cm x 1cm) herstellen und auf die Fläche legen. Hierfür brauchst du mind. 30 Einheitsquadrate.

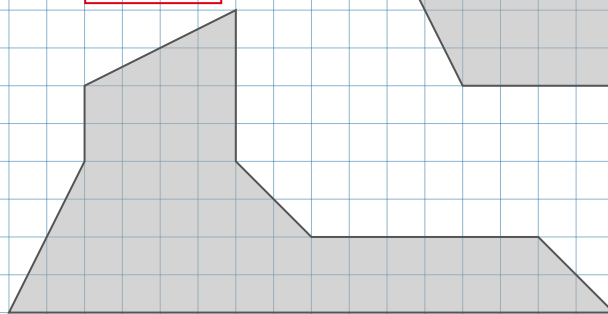
Aufg. 1



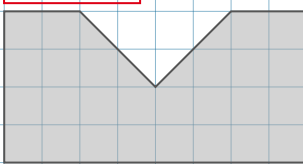
Aufg. 2



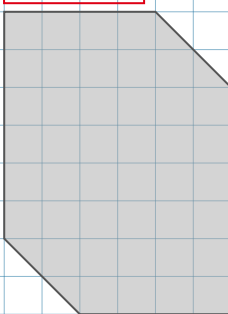
Aufg. 4



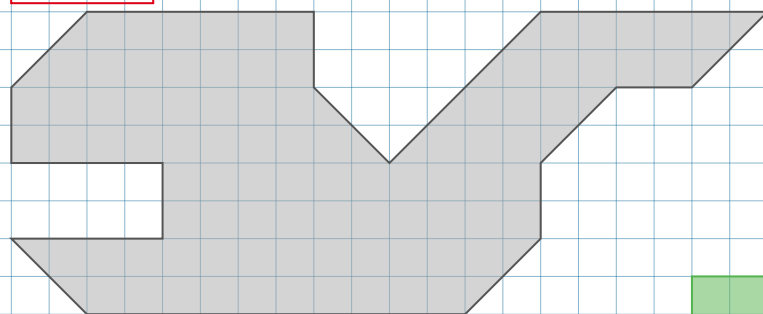
Aufg. 3



Aufg. 5



Aufg. 6



1) $A_{\text{Fläche 1}} =$ Einheitsquadrate

2) $A_{\text{Fläche 2}} =$ Einheitsquadrate

3) $A_{\text{Fläche 3}} =$ Einheitsquadrate

4) $A_{\text{Fläche 4}} =$ Einheitsquadrate

5) $A_{\text{Fläche 5}} =$ Einheitsquadrate

6) $A_{\text{Fläche 6}} =$ Einheitsquadrate

