
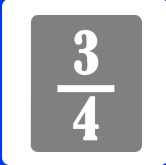


- ① Male die angegebenen Brüche in der Balkentafel auf der nächsten Seite an. Sortiere danach die Brüche der Größe nach. Beginne mit dem kleinsten Bruch. Nutze in deiner Lösung das Zeichen „<“. Schreibe die Lösung auf das karierte Papier auf dieser Seite.

$$\frac{1}{2} \quad \frac{1}{13} \quad \frac{1}{20} \quad \frac{1}{18} \quad \frac{1}{9} \quad \frac{1}{3}$$





# AB: Sortieren mit Balkentafel II

Mathematik Bruchrechnen M 5

2er-Balken 

--	--

3er-Balken 

--	--	--

4er-Balken 

--	--	--	--

5er-Balken 

--	--	--	--	--

6er-Balken 

--	--	--	--	--	--

7er-Balken 

--	--	--	--	--	--	--

8er-Balken 

--	--	--	--	--	--	--	--

9er-Balken 

--	--	--	--	--	--	--	--	--

10er-Balken 

--	--	--	--	--	--	--	--	--	--

13er-Balken 

--	--	--	--	--	--	--	--	--	--	--	--

15er-Balken 

--	--	--	--	--	--	--	--	--	--	--	--

18er-Balken 

--	--	--	--	--	--	--	--	--	--	--	--	--

20er-Balken 

--	--	--	--	--	--	--	--	--	--	--	--	--	--

24er-Balken 

--	--	--	--	--	--	--	--	--	--	--	--	--	--	--



- ② Male die angegebenen Brüche in der Balkentafel auf der nächsten Seite an. Sortiere danach die Brüche der Größe nach. Beginne mit dem kleinsten Bruch. Nutze in deiner Lösung das Zeichen „<“. Schreibe die Lösung auf das karierte Papier auf dieser Seite.

$\frac{1}{24}$


$\frac{1}{4}$

$\frac{1}{8}$

$\frac{1}{5}$

$\frac{1}{15}$

$\frac{1}{13}$



2er-Balken 

--	--

3er-Balken 

--	--	--

4er-Balken 

--	--	--	--

5er-Balken 

--	--	--	--	--

6er-Balken 

--	--	--	--	--	--

7er-Balken 

--	--	--	--	--	--	--

8er-Balken 

--	--	--	--	--	--	--	--

9er-Balken 

--	--	--	--	--	--	--	--	--

10er-Balken 

--	--	--	--	--	--	--	--	--	--

13er-Balken 

--	--	--	--	--	--	--	--	--	--	--	--	--

15er-Balken 

--	--	--	--	--	--	--	--	--	--	--	--	--	--

18er-Balken 

--	--	--	--	--	--	--	--	--	--	--	--	--	--	--

20er-Balken 

--	--	--	--	--	--	--	--	--	--	--	--	--	--	--

24er-Balken 

--	--	--	--	--	--	--	--	--	--	--	--	--	--	--	--