

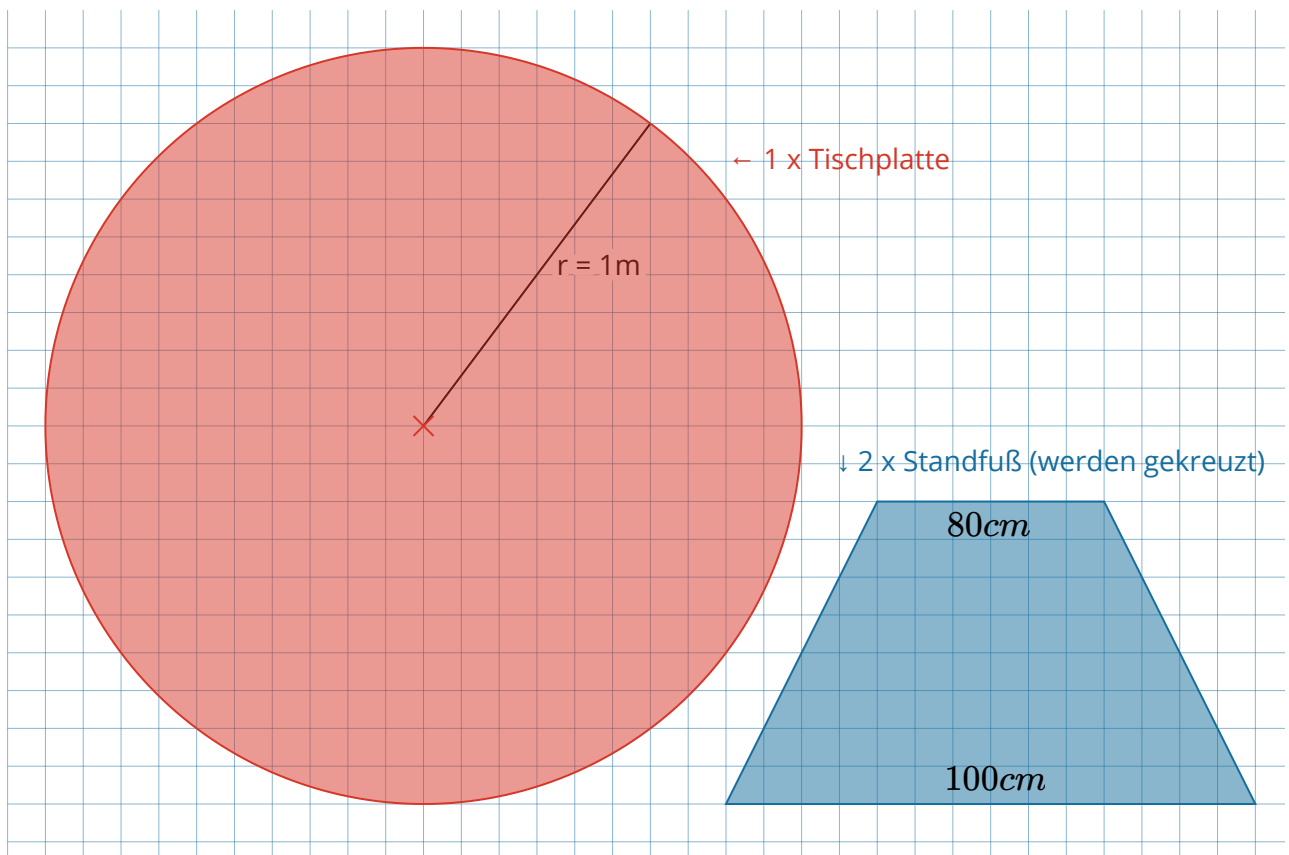


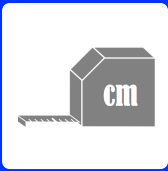
AB: Teste dein Wissen

Mathematik Messen E 6

① Hier siehst du einen Bauplan für einen runden Tisch.
Berechne, wie viele Quadratmeter Holz hierfür benötigt werden.

- Alle Bauteile werden aus dem gleichen Holz gemacht.
- Der Tisch soll 75cm hoch sein (die Dicke der Tischplatte nicht mit einberechnet).
- Berechne immer im 4-Schritt-Löseverfahren.



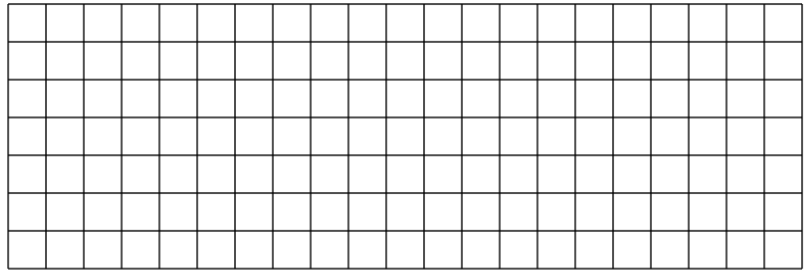
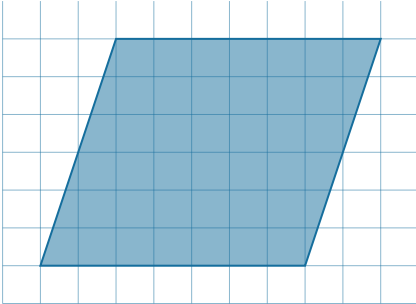


AB: Teste dein Wissen


Mathematik Messen E 6

⑥ **Berechne den Flächeninhalt des Parallelogramms.**

(1 Kästchen = $5mm$)



⑦ **Wie lautet die Formel zur Flächenberechnung eines Trapezes?**



⑧ **Berechne den Flächeninhalt des Trapezes.**

(1 Kästchen = $5mm$)

