



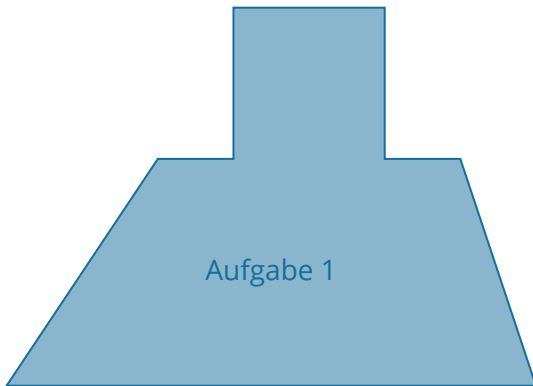
AB: Umfang berechnen

Mathematik Messen E 5

- ① **Stelle von jeder Figur den Sachterm für ihren Umfang (U) auf und berechne ihn.**

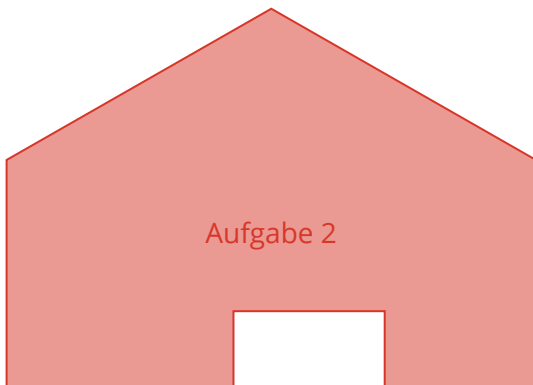
Drucke diese Seite aus (**Druckgröße 100%!**), damit du die Seitenlängen messen kannst.

Berechne dann auf einem karierten Blatt Papier und denke an das 4-Schritt-Löseverfahren.



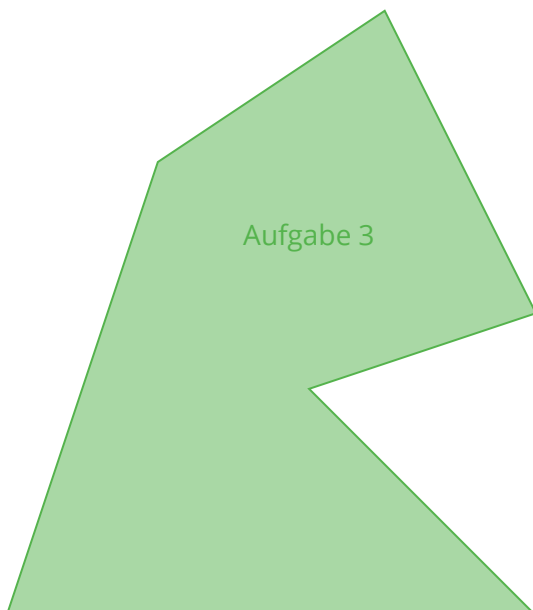
Sachterm:

Ergebnis:



Sachterm:

Ergebnis:



Sachterm:

Ergebnis:

