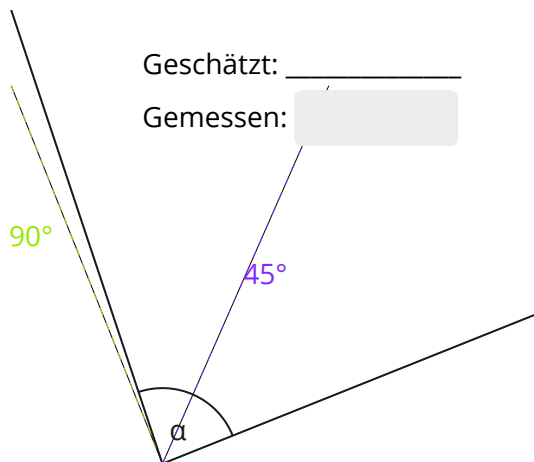


AB: Winkel messen

Mathematik Messen M 6

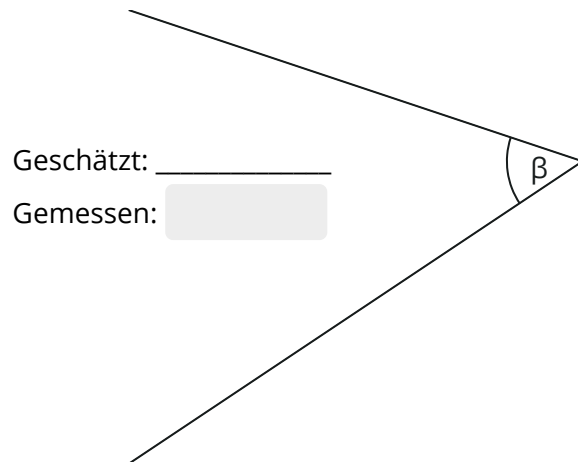
① **Wie groß sind wohl folgende Winkel?** (Dieses Material solltest du ausdrucken.)

- 1) Schätze zunächst, wie groß der Winkel sein könnte. (Tip: zeichne dir zu einem Schenkel gestrichelte Linie im 90° - und/oder 45° -Winkel → siehe Beispiel)
- 2) Miss den Winkel (mehr als $\pm 1^\circ$ Abweichung solltest du nicht haben!).



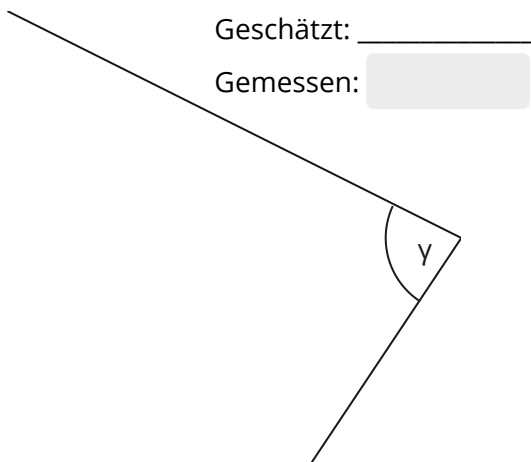
Geschätzt: _____

Gemessen:



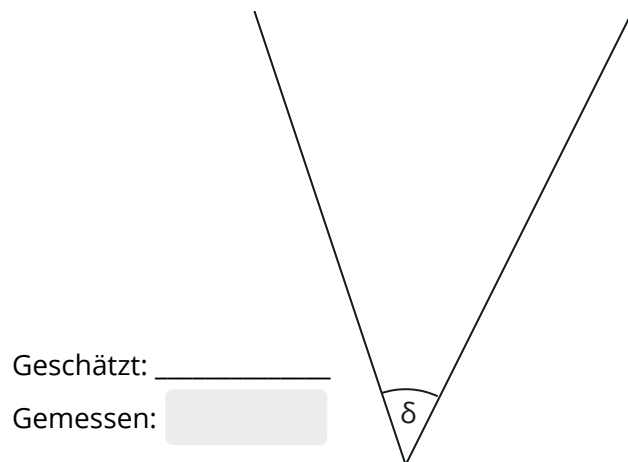
Geschätzt: _____

Gemessen:



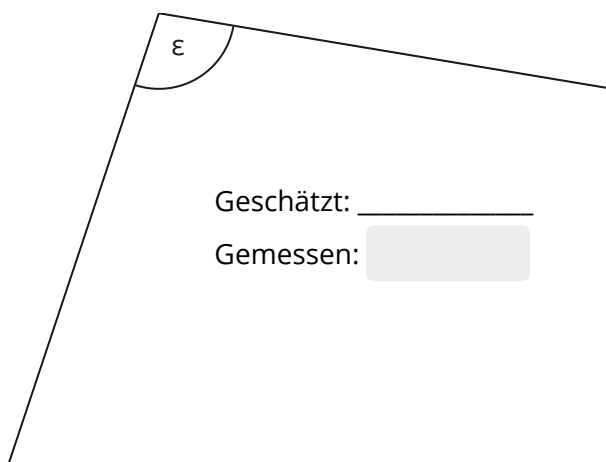
Geschätzt: _____

Gemessen:



Geschätzt: _____

Gemessen:



Geschätzt: _____

Gemessen:

Geschätzt: _____

Gemessen:

