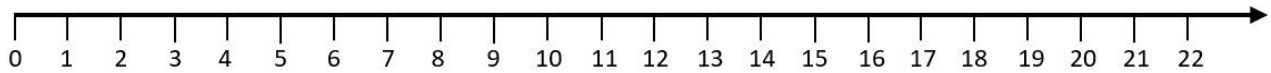
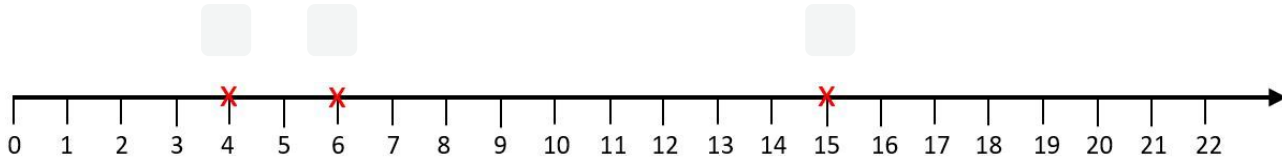


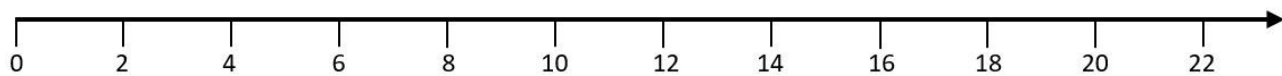
- ① Markiere die Zahlen 3, 7 und 12 auf dem Zahlenstrahl.



- ② Gib an, welche Zahlen auf dem Zahlenstrahl markiert sind.




- ③ Markiere die Zahlen 2, 9 und 18 auf dem Zahlenstrahl.



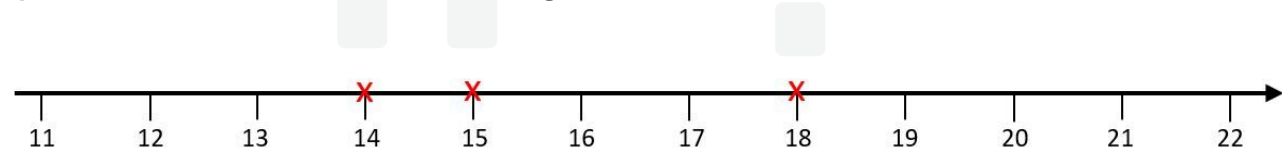
- ④ Gib an, welche Zahlen auf dem Zahlenstrahl markiert sind.



- ⑤ Markiere die Zahlen 12, 19 und 21 auf der Zahlengeraden.



- ⑥ Gib an, welche Zahlen auf der Zahlengeraden markiert sind.



- ⑦ Markiere die Zahlen 8, 11 und 14 auf der Zahlengeraden.



- ⑧ Gib an, welche Zahlen auf der Zahlengeraden markiert sind.

