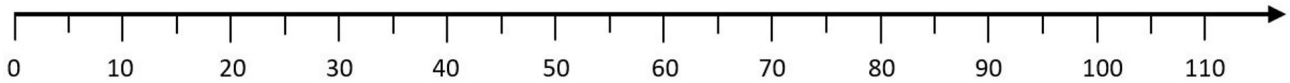
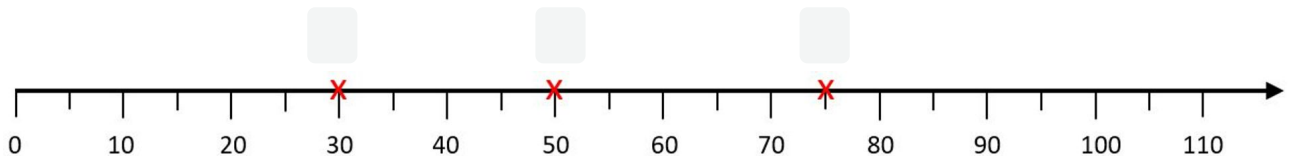


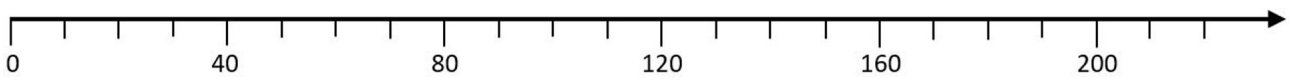
- ① Markiere die Zahlen 10, 85 und 100 auf dem Zahlenstrahl.



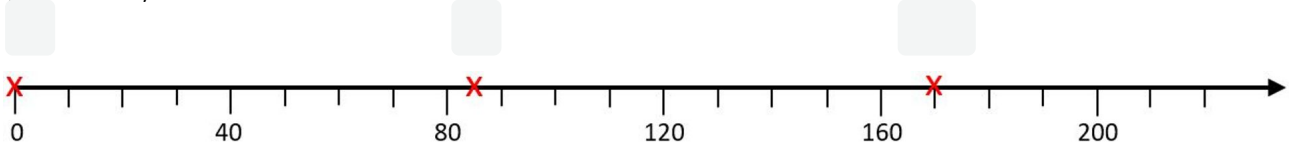
- ② Gib an, welche Zahlen auf dem Zahlenstrahl markiert sind.



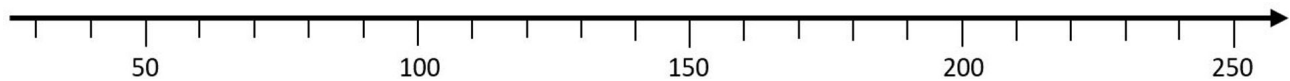
- ③ Markiere die Zahlen 10, 40 und 210 auf dem Zahlenstrahl.



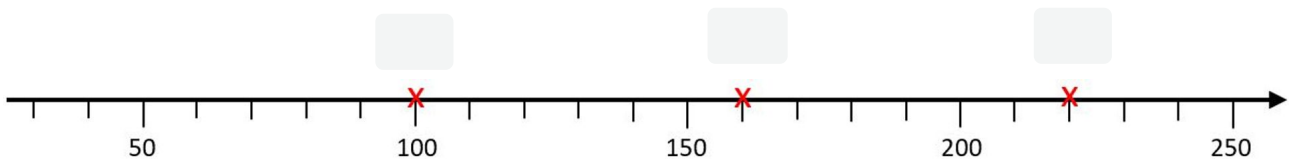
- ④ Gib an, welche Zahlen auf dem Zahlenstrahl markiert sind.



- ⑤ Markiere die Zahlen 40, 120 und 230 auf der Zahlengeraden.



- ⑥ Gib an, welche Zahlen auf der Zahlengeraden markiert sind.



- ⑦ a) Zeichne einen Zahlenstrahl mit Zehnerschritten.  
b) Markiere die Zahlen 20, 45 und 110.

