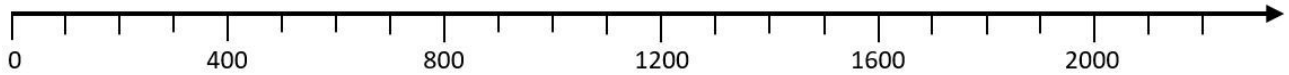
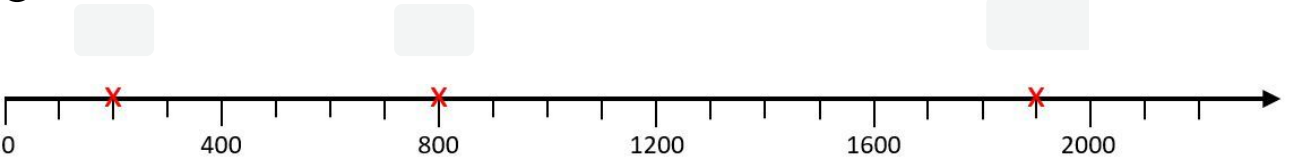


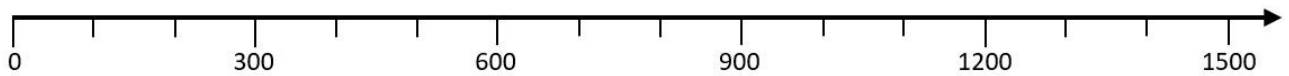
- ① Markiere die Zahlen 400, 1000 und 1500 auf dem Zahlenstrahl.



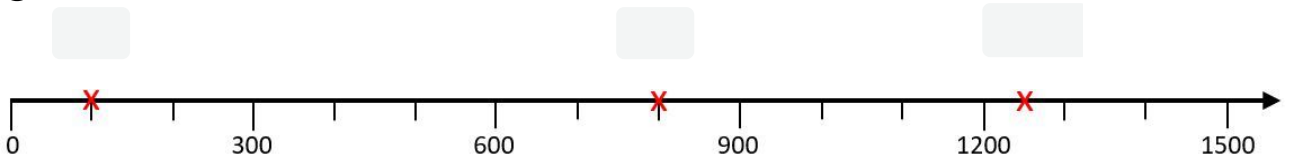
- ② Gib an, welche Zahlen auf dem Zahlenstrahl markiert sind.



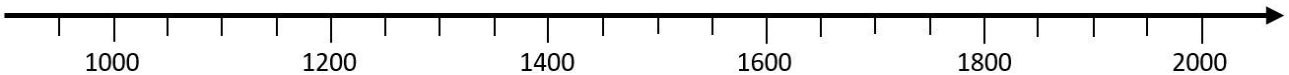
- ③ Markiere die Zahlen 0, 400 und 1050 auf dem Zahlenstrahl.



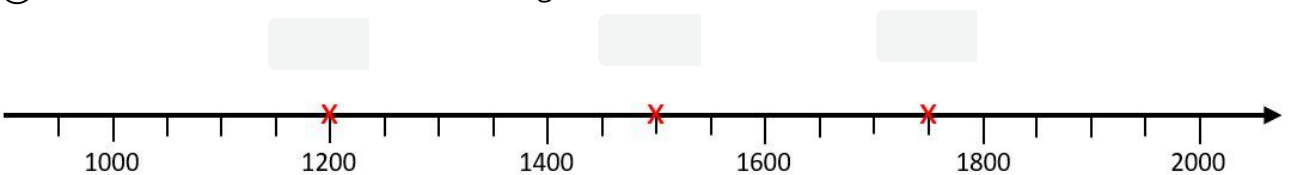
- ④ Gib an, welche Zahlen auf dem Zahlenstrahl markiert sind.



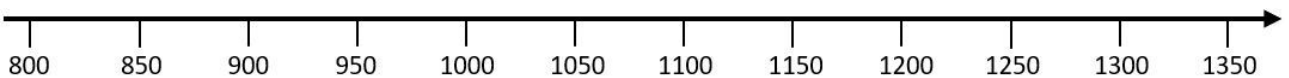
- ⑤ Markiere die Zahlen 1100, 1250 und 1900 auf der Zahlengeraden.



- ⑥ Gib an, welche Zahlen auf der Zahlengeraden markiert sind.



- ⑦ Markiere die Zahlen 925, 1175 und 1350 auf der Zahlengeraden .



- ⑧ Gib an, welche Zahlen auf der Zahlengeraden markiert sind.

