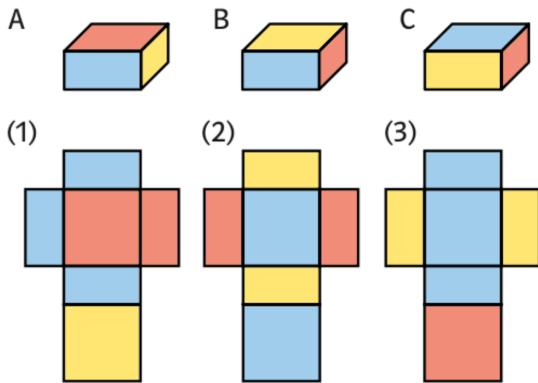




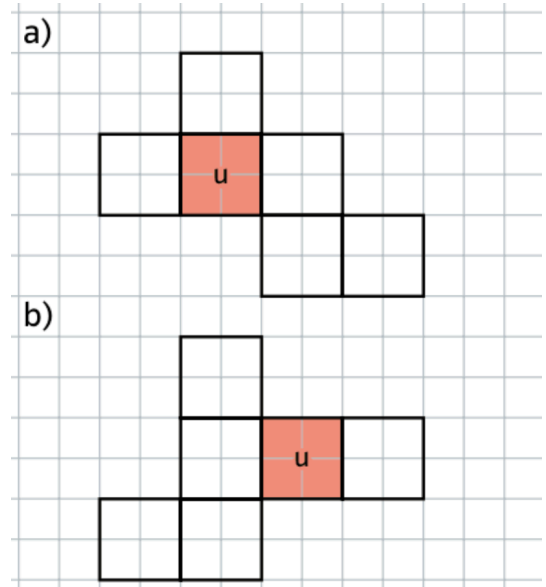
AB: Netze von Quader und Würfel

Mathematik Körper 6

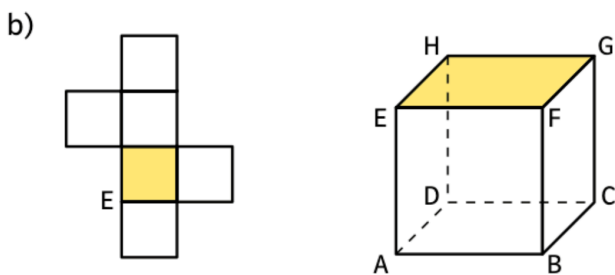
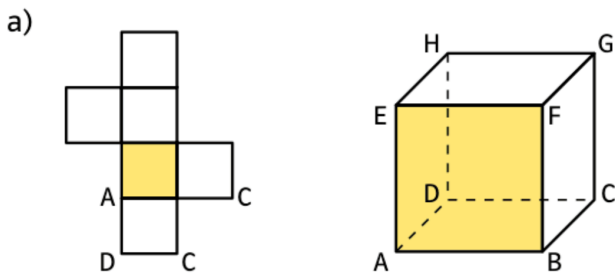
① Welches Netz passt zu welchem Quader?



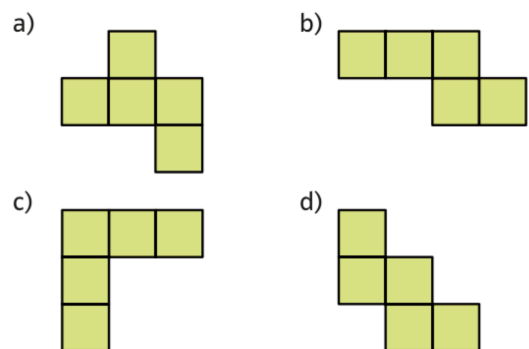
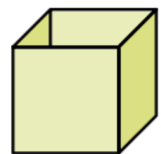
② Die Grundfläche des Würfels ist mit „u“ (unten) gekennzeichnet. Trage in die Würfelnetze v (vorne); h (hinten); l (links); r (rechts); o (oben) ein.



③ Zeichne die Netze ab und übertrage die Buchstaben der Würfeldecken an die Eckpunkte des Netzes.



④ Aus welchem Netz kann man eine offene Schachtel falten?

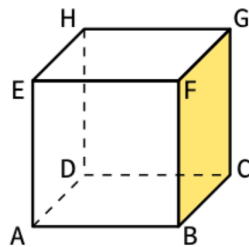
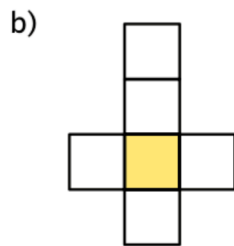
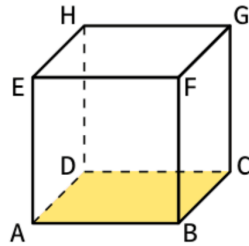
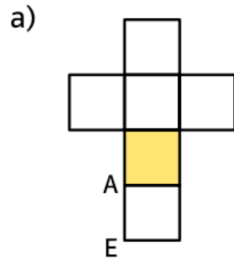




AB: Netze von Quader und Würfel

Mathematik Körper 6

⑤ Zeichne die Netze ab und übertrage die Buchstaben der Würfecken an die Eckpunkte des Netzes



⑥ Zeichne ein Würfelnetz und trage die rote Linien ein.

