

Name Lernpartner/in:

Name Lernbegleiter/in:

Datum:

① Hier werden natürliche Zahlen beschrieben. Ermittle die gesuchten Zahlen.

/ 3

a) Die Zahl ist die größte zweistellige Zahl.

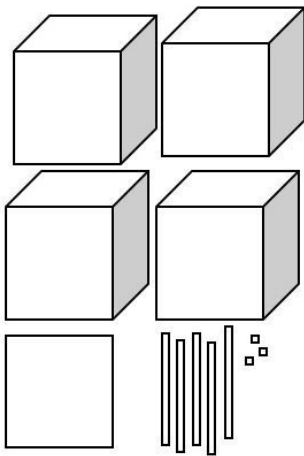
b) Die Zahl ist größer als 512 und kleiner als 514.

c) Die Zahl ist der kleine Nachbarhunderter von 731.

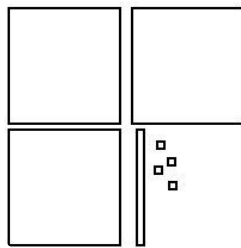
② Ermittle, welche Zahlen mit Tausenderwürfeln, Hunderterplatten, Zehnerstangen und Einerwürfeln dargestellt wurden.

/ 3

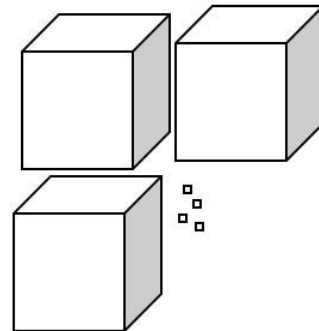
a)



b)



c)



③ Stelle die Zahlen mit Tausenderwürfeln, Hunderterplatten, Zehnerstangen und Einerwürfeln dar. Verwende dafür zusätzliches Papier.

/ 3

a) 212

b) 3.507

c) 1.238



⑧ Runde die Zahlen.

/ 6

a) auf Zehner

38 ≈

703 ≈

b) auf Hunderter

516 ≈

2.546 ≈

c) auf Tausender

3.999 ≈

8.546 ≈



### Wichtig!

Wenn du den Gelingensnachweis beendet hast, tackere alle Blätter zusammen, loche sie und gib sie bei deinem Lernbegleiter / deiner Lernbegleiterin ab.

Punkte / 30	Prozent	Niveau G M E	LB	DiLer	Feed-back
----------------	---------	-----------------	----	-------	-----------

